

الاختبار 19 طرق الدهان				
• يُشكل القطع الخشبية باستخدام الغراء والمسامير والبراغي والدُّسْر		مخرج التعلم	يُظهر معرفة ومهارة في تصنيع المنتجات الخشبية	اسم الوحدة
الفصل الثالث	2024	السنة الدراسية / الفصل الدراسي	يُعد المنتجات الخشبية لعملية الدهان من خلال إزالة الأصباغ والحروق الناتجة عن عملية التثبيت	معيّار الأداء
		اسم المجموعة	حسن	اسم الطالب/ة

السؤال الاول وضع دائرة حول الصورة الصحيحة التي تعبر عن طرق عملية دهان الخشب





+

~~X~~

الاختبار 19 طرق الدهان

• يُشكل القطع الخشبية باستخدام الغراء والمسامير والبراغي والدُّسر		مخرج التعلم	يُظهر معرفة ومهارة في تصنيع المنتجات الخشبية	اسم الوحدة
الفصل الثالث	2024	السنة الدراسية / الفصل الدراسي	يُعد المنتجات الخشبية لعملية الدهان من خلال إزالة الأصباغ والحروق الناتجة عن عملية التثبيت	معيّار الأداء
		اسم المجموعة	البراءة لله	اسم الطالب/ة

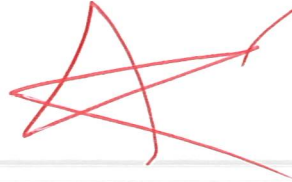

السؤال الاول وضع دائرة حول الصورة الصحيحة التي تعبر عن طرق عملية دهان الخشب



الاختبار 19 طرق الدهان

• يُشكل القطع الخشبية باستخدام الغراء والمسامير والبراغي والدّسر		مخرج التعلم	يُظهر معرفة ومهارة في تصنيع المنتجات الخشبية	اسم الوحدة
الفصل الثالث	2024	السنة الدراسية / الفصل الدراسي	يُعد المنتجات الخشبية لعملية الدهان من خلال إزالة الأصباغ والحروق الناتجة عن عملية التثبيت	معيّار الأداء
		اسم المجموعة	اسم الطالب/ة	

السؤال الاول
ضع دائرة حول الصورة الصحيحة التي تعبر عن طرق عملية دهان الخشب



الاختبار 19 طرق الدهان

• يُشكل القطع الخشبية باستخدام الغراء والمسامير والبراغي والدُّسر		مخرج التعلم	يُظهر معرفة ومهارة في تصنيع المنتجات الخشبية	اسم الوحدة
الفصل الثالث	2024	السنة الدراسية / الفصل الدراسي	يُعد المنتجات الخشبية لعملية الدهان من خلال إزالة الأصباغ والحروق الناتجة عن عملية التثبيت	معيار الأداء
AABKIRA		اسم المجموعة	AABNB	اسم الطالب/ة

السؤال الاول
ضع دائرة حول الصورة الصحيحة التي تعبر عن طرق عملية دهان الخشب

