




الاختبار

يرش ويدهن المشغولات الخشبية بالأصباغ والدهانات بعد الانتهاء من تصنيعها بالطرق الصحيحة والأمانة		مخرج التعلم	يُظهر معرفة ومهارة في تصنيع المنتجات الخشبية	اسم الوحدة
الفصل الثالث	2024	السنة الدراسية / الفصل الدراسي	يدهن المشغولات بأنواع مختلفة من الدهانات الخاصة بالأخشاب بطريقة صحيحة وأمانة	معيار الأداء
		اسم المجموعة	عامه	اسم الطالب/ة

صل بين انواع الدهانات واستخداماتها المناسبة


السؤال الأول





الاختبار			
اسم الوحدة	يُظهر معرفة ومهارة في تصنيع المنتجات الخشبية	مخرج التعلم	• يرش ويدهن المشغولات الخشبية بالأصباغ والدهانات بعد الانتهاء من تصنيعها بالطرق الصحيحة والأمانة
معيار الأداء	يدهن المشغولات بأنواع مختلفة من الدهانات الخاصة بالأخشاب بطريقة صحيحة وأمنة	السنة الدراسية / الفصل الدراسي	2024 الفصل الثالث
اسم الطالب/ة	دعد	اسم المجموعة	



السؤال الأول	صل بين انواع الدهانات واستخداماتها المناسبة
--------------	---





الاختبار			
اسم الوحدة	يُظهر معرفة ومهارة في تصنيع المنتجات الخشبية	مخرج التعلم	• يرش ويدهن المشغولات الخشبية بالأصباغ والدهانات بعد الانتهاء من تصنيعها بالطرق الصحيحة والأمنة
معياري الأداء	يدهن المشغولات بأنواع مختلفة من الدهانات الخاصة بالأخشاب بطريقة صحيحة وأمنة	السنة الدراسية / الفصل الدراسي	2024 الفصل الثالث
اسم الطالب/ة	لؤوي	اسم المجموعة	

السؤال الأول	صل بين انواع الدهانات واستخداماتها المناسبة
--------------	---




الخشب ✓

حائى



الاختبار			
اسم الوحدة	يُظهر معرفة ومهارة في تصنيع المنتجات الخشبية	مخرج التعلم	• يرش ويدهن المشغولات الخشبية بالأصباغ والدهانات بعد الانتهاء من تصنيعها بالطرق الصحيحة والامنة
معيار الأداء	يدهن المشغولات بأنواع مختلفة من الدهانات الخاصة بالأخشاب بطريقة صحيحة وآمنة	السنة الدراسية / الفصل الدراسي	2024 الفصل الثالث
اسم الطالب/ة	١٥١	اسم المجموعة	

السؤال الأول	صل بين انواع الدهانات واستخداماتها المناسبة
--------------	---






الاختبار

يرش ويدهن المشغولات الخشبية بالأصباغ والدهانات بعد الانتهاء من تصنيعها بالطرق الصحيحة والأمنة		مخرج التعلم	يُظهر معرفة ومهارة في تصنيع المنتجات الخشبية	اسم الوحدة
الفصل الثالث	2024	السنة الدراسية / الفصل الدراسي	يدهن المشغولات بأنواع مختلفة من الدهانات الخاصة بالأخشاب بطريقة صحيحة وأمنة	معياري الأداء
		اسم المجموعة	خالد	اسم الطالب/ة

صل بين انواع الدهانات واستخداماتها المناسبة

السؤال الأول



صباغ




نموذج اختبار

اسم الوحدة		يُظهر معرفة ومهارة في تصنيع المنتجات الخشبية	مخرج التعلم	• يُشكل القطع الخشبية باستخدام الغراء والمسامير والبراغي والدُّسر
معيار الأداء	يرش المشغولات الخشبية بطريقة صحيحة وآمنة	السنة الدراسية / الفصل الدراسي	2024	الفصل الثالث
اسم الطالب/ة	ع م	اسم المجموعة		

أسئلة الاختبار

السؤال الاول	اختر الصورة التي تدل على استخدام مسدس الرش في عملية الطلاء .
--------------	--



✓

✓





نموذج اختبار

اسم الوحدة		يُظهر معرفة ومهارة في تصنيع المنتجات الخشبية	مخرج التعلم	• يُشكل القطع الخشبية باستخدام الغراء والمسامير والبراغي والدّسر
اسم الطالب/ة	نور	يرش المشغولات الخشبية بطريقة صحيحة وأمنة	السنة الدراسية / الفصل الدراسي	2024
معيار الأداء			الفصل الثالث	
اسم المجموعة				

أسئلة الاختبار

السؤال الاول	اختر الصورة التي تدل على استخدام مسدس الرش في عملية الطلاء .
--------------	--



✓

✓





نموذج اختبار

اسم الوحدة		يُظهر معرفة ومهارة في تصنيع المنتجات الخشبية	مخرج التعلم	• يُشكل القطع الخشبية باستخدام الغراء والمسامير والبراغي والدُّسر
معيار الأداء	يرش المشغولات الخشبية بطريقة صحيحة وآمنة	السنة الدراسية / الفصل الدراسي	2024	الفصل الثالث
اسم الطالب/ة	٥١	اسم المجموعة		

أسئلة الاختبار

السؤال الاول	اختر الصورة التي تدل على استخدام مسدس الرش في عملية الطلاء .
--------------	--






نموذج اختبار

اسم الوحدة		يُظهر معرفة ومهارة في تصنيع المنتجات الخشبية	مخرج التعلم	• يُشكل القطع الخشبية باستخدام الغراء والمسامير والبراغي والدُّسر
معيار الأداء	يرش المشغولات الخشبية بطريقة صحيحة وآمنة	السنة الدراسية / الفصل الدراسي	2024	الفصل الثالث
اسم الطالب/ة	عائد	اسم المجموعة		

أسئلة الاختبار

السؤال الأول	اختر الصورة التي تدل على استخدام مسدس الرش في عملية الطلاء .
--------------	--





نموذج اختبار

اسم الوحدة					يُظهر معرفة ومهارة في تصنيع المنتجات الخشبية	مخرج التعلم	• يُشكل القطع الخشبية باستخدام الغراء والمسامير والبراغي والدُّسر	
معيار الأداء		يرش المشغولات الخشبية بطريقة صحيحة وأمنة	السنة الدراسية / الفصل الدراسي	2024	الفصل الثالث			
اسم الطالب/ة		وعمر	اسم المجموعة					

أسئلة الاختبار

السؤال الاول	اختر الصورة التي تدل على استخدام مسدس الرش في عملية الطلاء .
--------------	--



✓

✓





الاختبار

• يلتزم بشروط وإجراءات الأمن والسلامة في مكان العمل		مخرج التعلم	يُظهر معرفة ومهارة في تصنيع المنتجات الخشبية	اسم الوحدة
الفصل الثالث	2024	السنة الدراسية / الفصل الدراسي	يلتزم بلبس الزي الخاص بالعمل	معيّار الأداء
		اسم المجموعة	دلع	اسم الطالب/ة

السؤال الأول	اختر الصورة الصحيحة التي تعبر عن الزي الخاص بورش النجارة
--------------	--






الاختبار

• يلتزم بشروط وإجراءات الأمن والسلامة في مكان العمل		مخرج التعلم	يُظهر معرفة ومهارة في تصنيع المنتجات الخشبية	اسم الوحدة
الفصل الثالث	2024	السنة الدراسية / الفصل الدراسي	يلتزم بلبس الزي الخاص بالعمل	معياري الأداء
		اسم المجموعة	خالد	اسم الطالب/ة

اختر الصورة الصحيحة التي تعبر عن الزي الخاص بورش النجارة

السؤال الأول



عامل
ورش

عامل
ورش

شرطة






الاختبار

اسم الوحدة		يُظهر معرفة ومهارة في تصنيع المنتجات الخشبية	مخرج التعلم	• يلتزم بشروط وإجراءات الأمن والسلامة في مكان العمل
اسم الطالب/ة	اسم المجموعة	اسم المجموعة	اسم المجموعة	اسم المجموعة
معيار الأداء	يلتزم بلبس الزي الخاص بالعمل	السنة الدراسية / الفصل الدراسي	2024	الفصل الثالث
اسم الطالب/ة	اسم المجموعة	اسم المجموعة	اسم المجموعة	اسم المجموعة

صممه

اختر الصورة الصحيحة التي تعبر عن الزي الخاص بورش النجارة

السؤال الأول






الاختبار

• يلتزم بشروط وإجراءات الأمن والسلامة في مكان العمل		مخرج التعلم	يُظهر معرفة ومهارة في تصنيع المنتجات الخشبية	اسم الوحدة
الفصل الثالث	2024	السنة الدراسية / الفصل الدراسي	يلتزم بلبس الزي الخاص بالعمل	معياري الأداء
		اسم المجموعة	توريه	اسم الطالب/ة

السؤال الأول	اختر الصورة الصحيحة التي تعبر عن الزي الخاص بورش النجارة
--------------	--





الاختبار

• يلتزم بشروط وإجراءات الأمن والسلامة في مكان العمل		مخرج التعلم	يُظهر معرفة ومهارة في تصنيع المنتجات الخشبية	اسم الوحدة
الفصل الثالث	2024	السنة الدراسية / الفصل الدراسي	يلتزم بلبس الزي الخاص بالعمل	معياري الأداء
		اسم المجموعة	أ. م. م.	اسم الطالب/ة

اختر الصورة الصحيحة التي تعبر عن الزي الخاص بورش النجارة

السؤال الأول




الاختبار

• يلتزم بشروط وإجراءات الأمن والسلامة في مكان العمل		مخرج التعلم	يُظهر معرفة ومهارة في تصنيع المنتجات الخشبية	اسم الوحدة
الفصل الثالث	2024	السنة الدراسية / الفصل الدراسي	يستخدم الأدوات والأجهزة الحادة بطريقة صحيحة وآمنة	معياري الأداة
		اسم المجموعة	نور	اسم الطالب/ة

ضع دائرة على الأدوات والاجهزة الحادة


السؤال الاول





الاختبار				
• يلتزم بشروط وإجراءات الأمن والسلامة في مكان العمل		مخرج التعلم	يُظهر معرفة ومهارة في تصنيع المنتجات الخشبية	اسم الوحدة
الفصل الثالث	2024	السنة الدراسية / الفصل الدراسي	يستخدم الأدوات والأجهزة الحادة بطريقة صحيحة وآمنة	معياري الأداء
		اسم المجموعة	ساعة	اسم الطالب/ة

السؤال الاول	ضع دائرة على الادوات والاجهزة الحادة
--------------	--------------------------------------





الاختبار

• يلتزم بشروط وإجراءات الأمن والسلامة في مكان العمل		مخرج التعلم	يُظهر معرفة ومهارة في تصنيع المنتجات الخشبية	اسم الوحدة
الفصل الثالث	2024	السنة الدراسية / الفصل الدراسي	يستخدم الأدوات والأجهزة الحادة بطريقة صحيحة وآمنة	معييار الأداء
		اسم المجموعة	فان	اسم الطالب/ة

ضع دائرة على الادوات والاجهزة الحادة

السؤال الاول




الاختبار

• يلتزم بشروط وإجراءات الأمن والسلامة في مكان العمل		مخرج التعلم	يُظهر معرفة ومهارة في تصنيع المنتجات الخشبية	اسم الوحدة
الفصل الثالث	2024	السنة الدراسية / الفصل الدراسي	يستخدم الأدوات والأجهزة الحادة بطريقة صحيحة وآمنة	معياري الأداء
		اسم المجموعة	١٤	اسم الطالب/ة

ضع دائرة على الأدوات والاجهزة الحادة

السؤال الاول






الاختبار

• يلتزم بشروط وإجراءات الأمن والسلامة في مكان العمل		مخرج التعلم	يُظهر معرفة ومهارة في تصنيع المنتجات الخشبية	اسم الوحدة
الفصل الثالث	2024	السنة الدراسية / الفصل الدراسي	يستخدم الأدوات والأجهزة الحادة بطريقة صحيحة وآمنة	معييار الأداء
		اسم المجموعة	د ع	اسم الطالب/ة

ضع دائرة على الادوات والاجهزة الحادة

السؤال الاول



✓





الاختبار			
اسم الوحدة	يُظهر معرفة ومهارة في تصنيع المنتجات الخشبية	مخرج التعلم	• يلتزم بشروط وإجراءات الأمن والسلامة في مكان العمل
معيار الأداء	ينفذ تعليمات وإرشادات الأمن والسلامة في بيئة العمل وعند استخدام التوصيلات الكهربائية أثناء العمل	السنة الدراسية / الفصل الدراسي	2024
اسم الطالب/ة	وعر	اسم المجموعة	الفصل الثالث

السؤال الأول	ضع دائرة على (القفازات الواقية - السماعات) .
--------------	--





الاختبار			
اسم الوحدة	يُظهر معرفة ومهارة في تصنيع المنتجات الخشبية	مخرج التعلم	• يلتزم بشروط وإجراءات الأمن والسلامة في مكان العمل
معيار الأداء	ينفذ تعليمات وإرشادات الأمن والسلامة في بيئة العمل وعند استخدام التوصيلات الكهربائية أثناء العمل	السنة الدراسية / الفصل الدراسي	2024
اسم الطالب/ة	١٥١	اسم المجموعة	٢

السؤال الأول	ضع دائرة على (القفازات الواقية - السماعات),
--------------	---





الاختبار			
اسم الوحدة	يُظهر معرفة ومهارة في تصنيع المنتجات الخشبية	مخرج التعلم	• يلتزم بشروط وإجراءات الأمن والسلامة في مكان العمل
معيار الأداء	ينفذ تعليمات وإرشادات الأمن والسلامة في بيئة العمل وعند استخدام التوصيلات الكهربائية أثناء العمل	السنة الدراسية / الفصل الدراسي	2024
اسم الطالب/ة	سماة	اسم المجموعة	الفصل الثالث

السؤال الأول	ضع دائرة على (القفازات الواقية - السماعات),
--------------	---





الاختبار			
اسم الوحدة	يُظهر معرفة ومهارة في تصنيع المنتجات الخشبية	مخرج التعلم	• يلتزم بشروط وإجراءات الأمن والسلامة في مكان العمل
معيار الأداء	ينفذ تعليمات وإرشادات الأمن والسلامة في بيئة العمل وعند استخدام التوصيلات الكهربائية أثناء العمل	السنة الدراسية / الفصل الدراسي	2024
اسم الطالب/ة	توريح	اسم المجموعة	الفصل الثالث

السؤال الأول	ضع دائرة على (القفازات الواقية - السماعات),
--------------	---





الاختبار				
• يلتزم بشروط وإجراءات الأمن والسلامة في مكان العمل		مخرج التعلم	يُظهر معرفة ومهارة في تصنيع المنتجات الخشبية	اسم الوحدة
الفصل الثالث	2024	السنة الدراسية / الفصل الدراسي	ينفذ تعليمات وإرشادات الأمن والسلامة في بيئة العمل وعند استخدام التوصيلات الكهربائية أثناء العمل	معيار الأداء
		اسم المجموعة	ط ٤	اسم الطالب/ة

السؤال الأول	ضع دائرة على (القفزات الواقية - السماعات) .
--------------	---

