


الاختبار 24 الادوات والاجهزة الحادة				
• يلتزم بشروط وإجراءات الأمن والسلامة في مكان العمل		مخرج التعلم	يُظهر معرفة ومهارة في تصنيع المنتجات الخشبية	اسم الوحدة
الفصل الثالث	2024	السنة الدراسية / الفصل الدراسي	يستخدم الأدوات والأجهزة الحادة بطريقة صحيحة وأمنة	معيار الأداء
		اسم المجموعة	البرازيل	اسم الطالب/ة

السؤال الاول

ضع دائرة على الادوات والاجهزة الحادة



70 %


الاختبار 24

الادوات والاجهزة الحادة

اسم الوحدة		يُظهر معرفة ومهارة في تصنيع المنتجات الخشبية	مخرج التعلم	• يلتزم بشروط وإجراءات الأمن والسلامة في مكان العمل
معيار الأداء	يستخدم الأدوات والأجهزة الحادة بطريقة صحيحة وأمنة	السنة الدراسية / الفصل الدراسي	2024	الفصل الثالث
اسم الطالب/ة	A / B / 3 / B	اسم المجموعة	ك / هـ / ب	

ضع دائرة على الادوات والاجهزة الحادة

السؤال الاول



1/40

الاختبار 24

الادوات والاجهزة الحادة




• يلتزم بشروط وإجراءات الأمن والسلامة في مكان العمل		مخرج التعلم	يُظهر معرفة ومهارة في تصنيع المنتجات الخشبية	اسم الوحدة
الفصل الثالث	2024	السنة الدراسية / الفصل الدراسي	يستخدم الأدوات والأجهزة الحادة بطريقة صحيحة وأمنة	معياري الأداء
		اسم المجموعة		اسم الطالب/ة

ضع دائرة على الادوات والاجهزة الحادة

السؤال الاول



✓



1/90


الاختبار 24

الادوات والاجهزة الحادة

• يلتزم بشروط وإجراءات الأمن والسلامة في مكان العمل		مخرج التعلم	يُظهر معرفة ومهارة في تصنيع المنتجات الخشبية	اسم الوحدة
الفصل الثالث	2024	السنة الدراسية / الفصل الدراسي	يستخدم الأدوات والأجهزة الحادة بطريقة صحيحة وأمنة	معياري الأداة
		اسم المجموعة	اسم الطالب	اسم الطالب/ة

ضع دائرة على الادوات والاجهزة الحادة

السؤال الاول



70