




الاختبار 24 الادوات والاجهزة الحادة			
• يلتزم بشروط وإجراءات الأمن والسلامة في مكان العمل		مخرج التعلم	اسم الوحدة
الفصل الثالث	2024	السنة الدراسية / الفصل الدراسي	يُظهر معرفة ومهارة في تصنيع المنتجات الخشبية
		اسم المجموعة	اسم الطالب/ة
			سلمى سالم
ضع دائرة على الادوات والاجهزة الحادة			السؤال الاول






الاختبار 24 الادوات والاجهزة الحادة			
• يلتزم بشروط وإجراءات الأمن والسلامة في مكان العمل		مخرج التعلم	اسم الوحدة
الفصل الثالث	2024	السنة الدراسية / الفصل الدراسي	يُظهر معرفة ومهارة في تصنيع المنتجات الخشبية
		اسم المجموعة	استخدم الأدوات والأجهزة الحادة بطريقة صحيحة وأمنة
			اسم الطالب/ة

ضع دائرة على الادوات والاجهزة الحادة

السؤال الاول




الاختبار 24

الادوات والاجهزة الحادة

• يلتزم بشروط وإجراءات الأمن والسلامة في مكان العمل		مخرج التعلم	يُظهر معرفة ومهارة في تصنيع المنتجات الخشبية	اسم الوحدة
الفصل الثالث	2024	السنة الدراسية / الفصل الدراسي	يستخدم الأدوات والأجهزة الحادة بطريقة صحيحة وأمنة	معياري الأداة
		اسم المجموعة	فائزة علي أهد	اسم الطالب/ة

السؤال الاول

ضع دائرة على الادوات والاجهزة الحادة



الاختبار 24 الادوات والاجهزة الحادة				
• يلتزم بشروط وإجراءات الأمن والسلامة في مكان العمل		مخرج التعلم	يُظهر معرفة ومهارة في تصنيع المنتجات الخشبية	اسم الوحدة
الفصل الثالث	2024	السنة الدراسية / الفصل الدراسي	يستخدم الأدوات والأجهزة الحادة بطريقة صحيحة وأمنة	معيار الأداء
		اسم المجموعة	لخيه	اسم الطالب/ة

السؤال الاول  
ضع دائرة على الادوات والاجهزة الحادة

