



### الاختبار

• يلتزم بشروط وإجراءات الأمن والسلامة في مكان العمل		مخرج التعلم	يُظهر معرفة ومهارة في تصنيع المنتجات الخشبية	اسم الوحدة
الفصل الثالث	2024	السنة الدراسية / الفصل الدراسي	يمسك المعدات بالطرق الصحيحة والأمانة	معياري الأداء
		اسم المجموعة	وعر	اسم الطالب/ة

اختر احد الادوات وقم بتطبيقها بطريقه امنه وصحيحه

السؤال الاول



✓





### الاختبار

• يلتزم بشروط وإجراءات الأمن والسلامة في مكان العمل		مخرج التعلم	يُظهر معرفة ومهارة في تصنيع المنتجات الخشبية	اسم الوحدة
الفصل الثالث	2024	السنة الدراسية / الفصل الدراسي	يمسك المعدات بالطرق الصحيحة والأمانة	معيار الأداء
		اسم المجموعة	جماعة	اسم الطالب/ة

اختر احد الادوات وقم بتطبيقها بطريقه آمنه وصحيحه

السؤال الاول



✓







الاختبار				
• يلتزم بشروط وإجراءات الأمن والسلامة في مكان العمل		مخرج التعلم	يُظهر معرفة ومهارة في تصنيع المنتجات الخشبية	اسم الوحدة
الفصل الثالث	2024	السنة الدراسية / الفصل الدراسي	يمسك المعدات بالطرق الصحيحة والأمانة	معياري الأداء
		اسم المجموعة	ايه	اسم الطالب/ة

السؤال الاول	اختر احد الادوات وقم بتطبيقها بطريقه امنه وصحيحه
--------------	--




نموذج اختبار				
يستخدم أدوات القص الأساسية في الصيانة وفق الطرق الصحيحة		مخرج التعلم	يظهر معرفة ومهارة في أعمال الصيانة العامة	اسم الوحدة
الفصل الثالث	2024	السنة الدراسية / الفصل الدراسي	يحدد أنواع وأحجام الأقراص القاطعة	معياري الأداء
		اسم المجموعة	وسيد	اسم الطالب/ة

أسئلة الاختبار	
حدد الصورة لجهاز الجراندي لقص الحديد	السؤال الاول




نموذج اختبار				
يستخدم أدوات القص الأساسية في الصيانة وفق الطرق الصحيحة		مخرج التعلم	يظهر معرفة ومهارة في أعمال الصيانة العامة	اسم الوحدة
الفصل الثالث	2024	السنة الدراسية / الفصل الدراسي	يحدد أنواع وأحجام الأقراص القاطعة	معييار الأداء
		اسم المجموعة	ا هـ	اسم الطالب/ة

أسئلة الاختبار	
حدد الصورة لجهاز الجرانند لقص الحديد	السؤال الاول



نموذج اختبار				
يستخدم أدوات القص الأساسية في الصيانة وفق الطرق الصحيحة		مخرج التعلم	يظهر معرفة ومهارة في أعمال الصيانة العامة	اسم الوحدة
الفصل الثالث	2024	السنة الدراسية / الفصل الدراسي	يحدد أنواع وأحجام الأقراص القاطعة	معياري الأداء
		اسم المجموعة	مما	اسم الطالب/ة




أسئلة الاختبار	
حدد الصورة لجهاز الجراندي لقص الحديد	السؤال الاول





الاختبار				
• يلتزم بشروط وإجراءات الأمن والسلامة في مكان العمل		مخرج التعلم	يُظهر معرفة ومهارة في تصنيع المنتجات الخشبية	اسم الوحدة
الفصل الثالث	2024	السنة الدراسية / الفصل الدراسي	يرتدي النظارات الواقية وقفازات الحماية و يرتدي الحذاء اللآمن الخاص بالعمل	معياري الأداء
		اسم المجموعة	لما عه	اسم الطالب/ة

السؤال الاول	صل ادوات الامن والسلامه بالصورة المناسبة
--------------	--



الاختبار				
• يلتزم بشروط وإجراءات الأمن والسلامة في مكان العمل		مخرج التعلم	يُظهر معرفة ومهارة في تصنيع المنتجات الخشبية	اسم الوحدة
الفصل الثالث	2024	السنة الدراسية / الفصل الدراسي	يرتدي النظارات الواقية وقفازات الحماية و يرتدي الحذاء اللآمن الخاص بالعمل	معيار الأداء
		اسم المجموعة	وعر	اسم الطالب/ة

صل ادوات الامن والسلامه بالصورة المناسبة

السؤال الاول





الاختبار				
• يلتزم بشروط وإجراءات الأمن والسلامة في مكان العمل		مخرج التعلم	يُظهر معرفة ومهارة في تصنيع المنتجات الخشبية	اسم الوحدة
الفصل الثالث	2024	السنة الدراسية / الفصل الدراسي	يرتدي النظارات الواقية وقفازات الحماية و يرتدي الحذاء اللآمن الخاص بالعمل	معييار الأداء
		اسم المجموعة	1	اسم الطالب/ة

صل ادوات الامن والسلامه بالصورة المناسبة

السؤال الاول

