


الاختبار 30

تنفيذ العمل

اسم الوحدة		يُظهر معرفة ومهارة في تصنيع المنتجات الخشبية	مخرج التعلم	• يلتزم بالوقت في تنفيذ العمل المطلوب
معيار الأداء	يُنقذ عمل محدد ضمن الوقت المخصص	السنة الدراسية / الفصل الدراسي	2024	الفصل الثالث
اسم الطالب/ة	سالم سالم	اسم المجموعة		




ضع دائرة على الصور
المتشابهة والانتهاه منها لمدة
5 دقائق



الاختبار 30

تنفيذ العمل

• يلتزم بالوقت في تنفيذ العمل المطلوب		مخرج التعلم	يُظهر معرفة ومهارة في تصنيع المنتجات الخشبية	اسم الوحدة
الفصل الثالث	2024	السنة الدراسية / الفصل الدراسي	يُنقذ عمل محدد ضمن الوقت المخصص	معياري الأداء
		اسم المجموعة	ريبه عمران	اسم الطالب/ة




ضع دائرة على الصور
المتشابهة والانتهاه منها لمدة
5 دقائق

الاختبار 30

تنفيذ العمل

العمل المطلوب		مخرج التعلم	يُظهر معرفة ومهارة في تصنيع المنتجات الخشبية	اسم الوحدة
الفصل الثالث	2024	السنة الدراسية / الفصل الدراسي	يُنقذ عمل محدد ضمن الوقت المخصص	معيار الأداء
		اسم المجموعة	فاخرة عمير المنصورى	اسم الطالب/ة




ضع دائرة على الصور
المتشابهة والانتهاه منها لمدة
5 دقائق



الاختبار 30

تنفيذ العمل

• يلتزم بالوقت في تنفيذ العمل المطلوب		مخرج التعلم	يُظهر معرفة ومهارة في تصنيع المنتجات الخشبية	اسم الوحدة
الفصل الثالث	2024	السنة الدراسية / الفصل الدراسي	يُنقذ عمل محدد ضمن الوقت المخصص	معياري الأداء
		اسم المجموعة	بختيار	اسم الطالب/ة



ضع دائرة على الصور
المتشابهة والانتهاه منها لمدة
5 دقائق