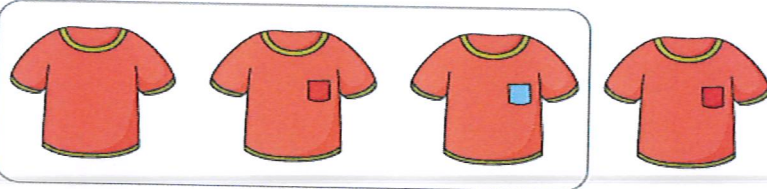
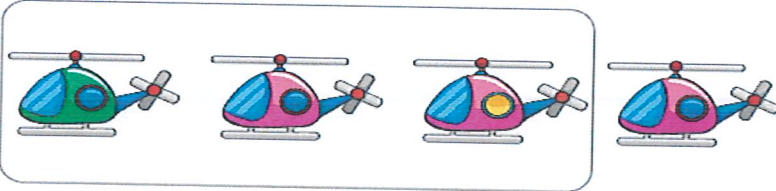




### الاختبار 30

### تنفيذ العمل

• يلتزم بالوقت في تنفيذ العمل المطلوب		مخرج التعلم	يُظهر معرفة ومهارة في تصنيع المنتجات الخشبية	اسم الوحدة
الفصل الثالث	2024	السنة الدراسية / الفصل الدراسي	يُنقذ عمل محدد ضمن الوقت المخصص	معياري الأداء
		اسم المجموعة		اسم الطالب/ة البيداء عينا مع



ضع دائرة على الصور  
المتشابهة والانتهاه منها لمدة  
5 دقائق



### الاختبار 30

### تنفيذ العمل

• يلتزم بالوقت في تنفيذ العمل المطلوب		مخرج التعلم	يُظهر معرفة ومهارة في تصنيع المنتجات الخشبية	اسم الوحدة
الفصل الثالث	2024	السنة الدراسية / الفصل الدراسي	يُنقذ عمل محدد ضمن الوقت المخصص	معيار الأداء
		اسم المجموعة	اسم الطالب/ة	اسم الطالب/ة




x/100

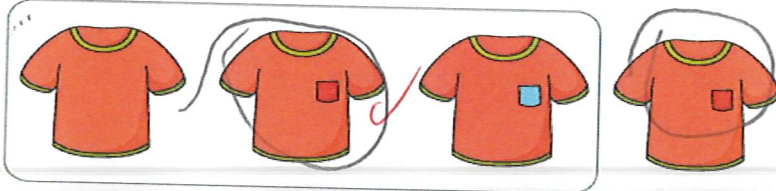
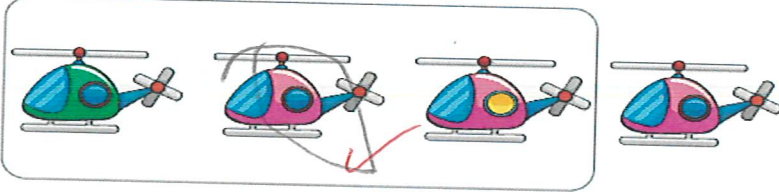
ضع دائرة على الصور  
المتشابهة والانتهاه منها لمدة  
5 دقائق



### الاختبار 30

### تنفيذ العمل

• يلتزم بالوقت في تنفيذ العمل المطلوب		مخرج التعلم	يُظهر معرفة ومهارة في تصنيع المنتجات الخشبية	اسم الوحدة
الفصل الثالث	2024	السنة الدراسية / الفصل الدراسي	يُنقذ عمل محدد ضمن الوقت المخصص	معيار الأداء
		اسم المجموعة		اسم الطالب/ة



ضع دائرة على الصور  
المتشابهة والانتهاه منها لمدة  
5 دقائق

✓ / 100





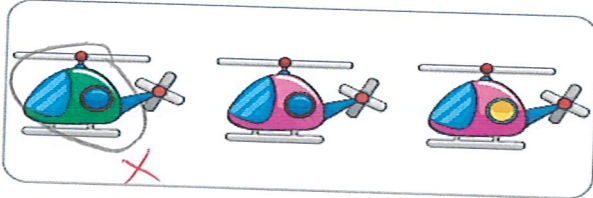




### الاختبار 30

### تنفيذ العمل

• يلتزم بالوقت في تنفيذ العمل المطلوب		مخرج التعلم	يُظهر معرفة ومهارة في تصنيع المنتجات الخشبية	اسم الوحدة
الفصل الثالث	2024	السنة الدراسية / الفصل الدراسي	يُنقذ عمل محدد ضمن الوقت المخصص	معياري الأداء
IRB		اسم المجموعة	IFAB	اسم الطالب/ة



ضع دائرة على الصور  
المتشابهة والانتهاه منها لمدة  
5 دقائق