






الاختبار اليومي							
اسم الوحدة	يظهر معرفة ومهارة في التصميم والخياطة والنسيج	السنة الدراسية	2024	الفصل الدراسي	الفصل	التاريخ	
مخرج التعلم	يلتزم بشروط وإجراءات الامن والسلامه في مكان العمل	معيار الأداء	يلتزم بلبس الزي الخاص بالعمل				
اسم الدرس	يرتدي زي العمل	رقم الدرس	الدرس 1				
اسم الطالب/ة	نور النور	اسم المجموعة	1				
درجة الاختبار	10						
نتيجة الاختبار	7						

الدرجات	اسالة الاختبار	
.....		
10		السؤال الأول حدد زي العمل لورشة الخياطة






الاختبار اليومي								
اسم الوحدة	يظهر معرفة ومهارة في التصميم والخياطة والنسيج	السنة الدراسية	2024	الفصل الدراسي	الفصل ..... التاريخ	التاريخ		
مخرج التعلم	يلتزم بشروط وإجراءات الامن والسلامه في مكان العمل	معيار الأداء	يلتزم بلبس الزي الخاص بالعمل					
اسم الدرس	يرتدي زي العمل	رقم الدرس	الدرس 1					
اسم الطالب /ة	عبدان ابر	اسم المجموعة	١					
درجة الاختبار	10							
نتيجة الاختبار	٩							

الدرجات	اسئلة الاختبار	
.....	السؤال الأول	
10	<p>حدد زي العمل لورشة الخياطة</p> <div data-bbox="236 474 746 1093"></div> <div data-bbox="778 474 1264 1115"></div>	
	<p>الطالب غير من الإجابة بعد تكرار الشرح له ( مساعدة لفتية )</p>	




الاختبار اليومي							
اسم الوحدة	يظهر معرفة ومهارة في التصميم والخياطة والنسيج	السنة الدراسية	2024	الفصل الدراسي	الفصل ..... التاريخ	اسم الدرس	اسم الطالب/ة
مخرج التعلم	يلتزم بشروط وإجراءات الامن والسلامه في مكان العمل	معيان الأداء	يلتزم بلبس الزي الخاص بالعمل				
اسم الدرس	يرتدي زي العمل	رقم الدرس	الدرس 1				
اسم الطالب/ة	مساعدة طه موير	اسم المجموعة	1				
درجة الاختبار	10						
نتيجة الاختبار	10						

الدرجات	اسالة الاختبار	
.....		
10		السؤال الأول حدد زي العمل لورشة الخياطة





الاختبار اليومي								
اسم الوحدة	يظهر معرفة ومهارة في التصميم والخياطة والنسيج	السنة الدراسية	2024	الفصل الدراسي	الفصل ..... التاريخ			
مخرج التعلم	يلتزم بشروط وإجراءات الامن والسلامه في مكان العمل	معيار الأداء	يلتزم بلبس الزي الخاص بالعمل					
اسم الدرس	يرتدي زي العمل	رقم الدرس	الدرس 1					
اسم الطالب/ة	أحمد بن منصور	اسم المجموعة	1					
درجة الاختبار	10							
نتيجة الاختبار	..... 10							


الدرجات	اسالة الاختبار	
10	 <p data-bbox="518 1108 638 1220">✓</p>	السؤال الأول حدد زي العمل لورشة الخياطة







الاختبار اليومي							
اسم الوحدة	يظهر معرفة ومهارة في التصميم والخياطة والنسيج	السنة الدراسية	2024	الفصل الدراسي	الفصل ..... التاريخ		
مخرج التعلم	يلتزم بشروط وإجراءات الامن والسلامه في مكان العمل	معيار الأداء	يلتزم بلبس الزي الخاص بالعمل				
اسم الدرس	يرتدي زي العمل	رقم الدرس	الدرس 1				
اسم الطالب/ة	هسن احمد	اسم المجموعة	1				
درجة الاختبار			10				
نتيجة الاختبار			..... 10				

الدرجات	اسالة الاختبار	
.....	السؤال الأول	
10	 <p data-bbox="821 1137 917 1243">✓</p>	حدد زي العمل لورشة الخياطة