




الاختبار اليومي

اسم الوحدة	يظهر معرفة ومهارة في التصميم والخياطة والنسيج	السنة الدراسية	2024	الفصل الدراسي	الفصل التاريخ
مخرج التعلم	يلتزم بشروط وإجراءات الامن والسلامة في مكان العمل	معيار الأداء	ينفذ تعليمات وإرشادات الامن والسلامة في بيئة العمل		
اسم الدرس	إرشادات وتعليمات الامن والسلامة للعمل	رقم الدرس	الدرس 3		
اسم الطالب/ة	حسن احمد	اسم المجموعة	7		
درجة الاختبار	10				
نتيجة الاختبار 10				

الدرجات	اسالة الاختبار	
.....		السؤال الأول حدد الصور التي توضح إرشادات الامن والسلامه
10		



الاختبار اليومي

اسم الوحدة	يظهر معرفة ومهارة في التصميم والخياطة والنسيج	السنة الدراسية	2024	الفصل الدراسي	الفصل التاريخ
مخرج التعلم	يلتزم بشروط وإجراءات الامن والسلامة في مكان العمل	معيان الأداء	ينفذ تعليمات وارشادات الامن والسلامة في بيئة العمل		
اسم الدرس	إرشادات وتعليمات الامن والسلامة للعمل	رقم الدرس	الدرس 3		
اسم الطالب/ة	دسيرة السحر	اسم المجموعة	7		
درجة الاختبار	10				
نتيجة الاختبار 8				

الدرجات	اسالة الاختبار	
.....		السؤال الأول حدد الصور التي توضح إرشادات الامن والسلامه
10	طباعه عن طريق المنجيه	



الاختبار اليومي

اسم الوحدة	يظهر معرفة ومهارة في التصميم والخياطة والنسيج	السنة الدراسية	2024	الفصل الدراسي	الفصل التاريخ
مخرج التعلم	يلتزم بشروط وإجراءات الامن والسلامة في مكان العمل	معياري الأداء	ينفذ تعليمات وارشادات الامن والسلامة في بيئة العمل		
اسم الدرس	ارشادات وتعليمات الامن والسلامة للعمل	رقم الدرس	الدرس 3		
اسم الطالب/ة	صها عبد المنصور	اسم المجموعة	1		
درجة الاختبار			10		
نتيجة الاختبار			9		


الدرجات	اسالة الاختبار	
.....		السؤال الأول
10		حدد الصور التي توضح إرشادات الامن والسلامه
		





الاختبار اليومي

اسم الوحدة	يظهر معرفة ومهارة في التصميم والخياطة والنسيج	السنة الدراسية	2024	الفصل الدراسي	الفصل التاريخ
مخرج التعلم	يلتزم بشروط وإجراءات الامن والسلامة في مكان العمل	معيان الأداء	ينفذ تعليمات وارشادات الامن والسلامة في بيئة العمل		
اسم الدرس	إرشادات وتعليمات الامن والسلامة للعمل	رقم الدرس	الدرس 3		
اسم الطالب/ة	ناهر كنعان	اسم المجموعة	9		
درجة الاختبار	10				
نتيجة الاختبار	7				

الدرجات	اسالة الاختبار	
.....		السؤال الأول حدد الصور التي توضح إرشادات الامن والسلامه
10		


كيسادة



الاختبار اليومي

اسم الوحدة	يظهر معرفة ومهارة في التصميم والخياطة والنسيج	السنة الدراسية	2024	الفصل الدراسي	الفصل التاريخ
مخرج التعلم	يلتزم بشروط وإجراءات الامن والسلامة في مكان العمل	معيان الأداء	ينفذ تعليمات وارشادات الامن والسلامة في بيئة العمل		
اسم الدرس	إرشادات وتعليمات الامن والسلامة للعمل	رقم الدرس	الدرس 3		
اسم الطالب/ة	عبدان البتر	اسم المجموعة	٩		
درجة الاختبار	10				
نتيجة الاختبار	٩				

بمساعدة لطفية

الدرجات	اسالة الاختبار	
.....		السؤال الأول حدد الصور التي توضح إرشادات الامن والسلامه
10		

