




الاختبار اليومي

اسم الوحدة	يظهر معرفة ومهارة في التصميم والخيطة والنسيج	السنة الدراسية	2024	الفصل الدراسي	الفصل الاول	التاريخ
مخرج التعلم	يستخدم شريط القياس والمسطرة في رسم المقاس المطلوب	معيار الأداء	يمسك شريط القياس والمسطرة بشكل مريح وآمن.			
اسم الدرس	يقيس باستخدام شريط القياس والمسطرة	رقم الدرس	8			
اسم الطالب/ة	هيس العجم	اسم المجموعة	1			
درجة الاختبار	10					
نتيجة الاختبار	9					




الدرجات	اسئلة الاختبار	
.....		
10		السؤال الأول اختر احدى الطرق للقياس وطبقها عمليا
	تصحيح الطالب احمد القياس عن طريق تسوية القياس	



الاختبار اليومي

اسم الوحدة	يظهر معرفة ومهارة في التصميم والخياطة والنسيج	السنة الدراسية	2024	الفصل الدراسي	الفصل الاول	التاريخ
مخرج التعلم	يستخدم شريط القياس والمسطرة في رسم المقاس المطلوب	معيار الأداء	يمسك شريط القياس والمسطرة بشكل مريح وآمن.			
اسم الدرس	يقيس باستخدام شريط القياس والمسطرة	رقم الدرس	8			
اسم الطالب/ة	سعيد العسر	اسم المجموعة	1			
درجة الاختبار	10					
نتيجة الاختبار 7					



الدرجات	اسئلة الاختبار	
.....		
10		السؤال الأول اختر احدى الطرق للقياس وطبقها عمليا
	الطالب ياخذ القياس بمساعدة كلية مع طرد	






الاختبار اليومي

اسم الوحدة	يظهر معرفة ومهارة في التصميم والخياطة والنسيج	السنة الدراسية	2024	الفصل الدراسي	الفصل الاول	التاريخ
مخرج التعلم	يستخدم شريط القياس والمسطرة في رسم المقاس المطلوب	معيان الأداء	يمسك شريط القياس والمسطرة بشكل مريح وآمن.			
اسم الدرس	يقيس باستخدام شريط القياس والمسطرة	رقم الدرس	8			
اسم الطالب/ة	عبدالله	اسم المجموعة	A			
درجة الاختبار	10					
نتيجة الاختبار 9					



الدرجات	اسئلة الاختبار	
.....	السؤال الأول	
10		اختر احدى الطرق للقياس وطبقها عمليا
	يستطيع الطالب ان يقيس باستخدام بشرط القياس بساعة من طرفين	






الاختبار اليومي

اسم الوحدة	يظهر معرفة ومهارة في التصميم والخياطة والنسيج	السنة الدراسية	2024	الفصل الدراسي	الفصل الاول	التاريخ
مخرج التعلم	يستخدم شريط القياس والمسطرة في رسم المقاس المطلوب	معيار الأداء	يمسك شريط القياس والمسطرة بشكل مريح وآمن.			
اسم الدرس	يقيس باستخدام شريط القياس والمسطرة	رقم الدرس	8			
اسم الطالب/ة	مساعدة طه سوير	اسم المجموعة	١			
درجة الاختبار	10					
نتيجة الاختبار 8					




الدرجات	اسئلة الاختبار	
.....		السؤال الأول اختر احدى الطرق للقياس وطبقها عمليا
10		
	يسرّع بطايقه اخذ القياسات بالمسطره	



الاختبار اليومي

اسم الوحدة	يظهر معرفة ومهارة في التصميم والخياطة والنسيج	السنة الدراسية	2024	الفصل الدراسي	الفصل الاول	التاريخ
مخرج التعلم	يستخدم شريط القياس والمسطرة في رسم المقاس المطلوب	معياري الأداء	يمسك شريط القياس والمسطرة بشكل مريح وآمن.			
اسم الدرس	يقيس باستخدام شريط القياس والمسطرة	رقم الدرس	8			
اسم الطالب/ة	نامر بن سويد	اسم المجموعة	1			
درجة الاختبار	10					
نتيجة الاختبار 8					



الدرجات	اسئلة الاختبار	
.....		السؤال الأول
10		اختر احدى الطرق للقياس وطبقها عمليا
	سيتخرج الطالب اخذ القياس بالمسطرة بمساعدة كمره	

✓

