




الاختبار اليومي

اسم الوحدة	ظهر معرفة ومهارة في التصميم والخياطة والنسيج	السنة الدراسية	2024	الفصل الدراسي	الفصل الاول	التاريخ
مخرج التعلم	يستخدم شريط القياس والمسطرة في رسم المقاس المطلوب	معيار الأداء	يضع شريط القياس بشكل مستقيم على السطح المراد قياسه			
اسم الدرس	الأدوات الخاصة بالقياس	رقم الدرس	9			
اسم الطالب/ة	محمد علي طه	اسم المجموعة	1			
درجة الاختبار	10					
نتيجة الاختبار	..... 8					




الدرجات	اسئلة الاختبار	
.....		السؤال الأول قم بقياس ذراع احد زملائك باستخدام شريط القياس (تطبيق عملي)
10		
	اخذ الطالب قياس ذراع زميله بمساعدة وتوجيه من المعلم	



الاختبار اليومي

اسم الوحدة	ظهر معرفة ومهارة في التصميم والخياطة والنسيج	السنة الدراسية	2024	الفصل الدراسي	الفصل الاول	التاريخ
مخرج التعلم	يستخدم شريط القياس والمسطرة في رسم المقاس المطلوب	معيان الأداء	يضع شريط القياس بشكل مستقيم على السطح المراد قياسه			
اسم الدرس	الأدوات الخاصة بالقياس	رقم الدرس	9			
اسم الطالب/ة	ناصر جعفر	اسم المجموعة	1			
درجة الاختبار			10			
نتيجة الاختبار			..... 8			




الدرجات	اسئلة الاختبار
.....	السؤال الأول
10	قم بقياس ذراع احد زملائك باستخدام شريط القياس (تطبيق عملي)
	
	سَيَكْفِيكَ بِغَالِبٍ إِذَا لَقِيَ الْقِيَاسَ لِجِسْمِ عَدُوِّكَ مِنْ



الاختبار اليومي

اسم الوحدة	ظهر معرفة ومهارة في التصميم والخياطة والنسيج	السنة الدراسية	2024	الفصل الدراسي	الفصل الاول	التاريخ
مخرج التعلم	يستخدم شريط القياس والمسطرة في رسم المقاس المطلوب	معيار الأداء	يضع شريط القياس بشكل مستقيم على السطح المراد قياسه			
اسم الدرس	الأدوات الخاصة بالقياس	رقم الدرس	9			
اسم الطالب/ة	عبدان إثر	اسم المجموعة	1			
درجة الاختبار			10			
نتيجة الاختبار			٩			



الدرجات	اسئلة الاختبار	
.....		السؤال الأول
10		قم بقياس ذراع احد زملائك باستخدام شريط القياس (تطبيق عملي)

استطاع الطالب اخذ القياس بسهولة ولكن بتوجيه


من المدرس



الاختبار اليومي

اسم الوحدة	ظهر معرفة ومهارة في التصميم والخيطة والنسيج	السنة الدراسية	2024	الفصل الدراسي	الفصل الاول	التاريخ
مخرج التعلم	يستخدم شريط القياس والمسطرة في رسم المقاس المطلوب	معيار الأداء	يضع شريط القياس بشكل مستقيم على السطح المراد قياسه			
اسم الدرس	الأدوات الخاصة بالقياس	رقم الدرس	9			
اسم الطالب/ة	سعيد الاسمر	اسم المجموعة	٩			
درجة الاختبار			10			
نتيجة الاختبار			..... 7			



الدرجات	اسئلة الاختبار
.....	السؤال الأول
10	قم بقياس ذراع احد زملائك باستخدام شريط القياس (تطبيق عملي)
	
	كمساعد من طلبة
	كلية

كمساعد من طلبة  
كلية






الاختبار اليومي

اسم الوحدة	ظهر معرفة ومهارة في التصميم والخياطة والنسيج	السنة الدراسية	2024	الفصل الدراسي	الفصل الاول	التاريخ
مخرج التعلم	يستخدم شريط القياس والمسطرة في رسم المقاس المطلوب	معيان الأداء	يضع شريط القياس بشكل مستقيم على السطح المراد قياسه			
اسم الدرس	الأدوات الخاصة بالقياس	رقم الدرس	9			
اسم الطالب/ة	سما احمد	اسم المجموعة	1			
درجة الاختبار	10					
نتيجة الاختبار	..... 9					



الدرجات	اسئلة الاختبار	
.....		السؤال الأول  قم بقياس ذراع احد زملائك باستخدام شريط القياس  (تطبيق عملي)
10		
	السطح الطالب احد قياس ذراع زميله	