




الاختبار اليومي

اسم الوحدة	يظهر معرفة ومهارة في التصميم والخياطة والنسيج	السنة الدراسية	2024	الفصل الدراسي	الفصل الاول	التاريخ
مخرج التعلم	يستخدم شريط القياس والمسطرة في رسم المقاس المطلوب	معياري الأداء	يستطيع الطالب وضع المسطرة بشكل مستقيم ورسم خط باستخدام القلم الرصاص على طول المسطرة			
اسم الدرس	رسم خط باستخدام القلم والمسطرة	رقم الدرس	11			
اسم الطالب/ة	ناصر المنصور	اسم المجموعة	1			
درجة الاختبار	10					
نتيجة الاختبار 7					



الدرجات	اسئلة الاختبار	
.....		السؤال الأول ارسم خط مستقيم باستخدام المسطرة على ورقه او قماش
10		
	لمساعدة هبديّة جزئيه	






الاختبار اليومي

اسم الوحدة	يظهر معرفة ومهارة في التصميم والخيطة والنسيج	السنة الدراسية	2024	الفصل الدراسي	الفصل الاول	التاريخ
مخرج التعلم	يستخدم شريط القياس والمسطرة في رسم المقاس المطلوب	معيار الأداء	يستطيع الطالب وضع المسطرة بشكل مستقيم ورسم خط باستخدام القلم الرصاص على طول المسطرة			
اسم الدرس	رسم خط باستخدام القلم والمسطرة	رقم الدرس	11			
اسم الطالب/ة	هشام بن هورير	اسم المجموعة	٨			
درجة الاختبار			10			
نتيجة الاختبار			٨		



الدرجات	اسئلة الاختبار	
.....		السؤال الأول
10		ارسم خط مستقيم باستخدام المسطرة على ورقه او قماش
		






الاختبار اليومي

اسم الوحدة	يظهر معرفة ومهارة في التصميم والخيطة والنسيج	السنة الدراسية	2024	الفصل الدراسي	الفصل الاول	التاريخ
مخرج التعلم	يستخدم شريط القياس والمسطرة في رسم المقاس المطلوب	معيار الأداء	يستطيع الطالب وضع المسطرة بشكل مستقيم ورسم خط باستخدام القلم الرصاص على طول المسطرة			
اسم الدرس	رسم خط باستخدام القلم والمسطرة	رقم الدرس	11			
اسم الطالب/ة	حسن محمد	اسم المجموعة	7			
درجة الاختبار	10					
نتيجة الاختبار	10					




الدرجات	اسئلة الاختبار	
.....		السؤال الأول
10	 <p>ارسم خط مستقيم باستخدام المسطرة على ورقه او قماش</p> <p>مستقيم الخط الطلب ارسم خط مستقيم بمفرده</p>	





الاختبار اليومي							
اسم الوحدة	يظهر معرفة ومهارة في التصميم والخياطة والنسيج	السنة الدراسية	2024	الفصل الدراسي	الفصل الاول	التاريخ	
مخرج التعلم	يستخدم شريط القياس والمسطرة في رسم المقاس المطلوب	معيار الأداء	يستطيع الطالب وضع المسطرة بشكل مستقيم ورسم خط باستخدام القلم الرصاص على طول المسطرة				
اسم الدرس	رسم خط باستخدام القلم والمسطرة	رقم الدرس	11				
اسم الطالب/ة	سعيد السحر	اسم المجموعة	1				
درجة الاختبار			10				
نتيجة الاختبار			7				




الدرجات	اسئلة الاختبار
.....	السؤال الأول
10	ارسم خط مستقيم باستخدام المسطرة على ورقه او قماش
	
	لمساعدة سبيلهم نستطيع ان نرسم خط مستقيم

لمساعدة سبيلهم نستطيع ان نرسم خط مستقيم



الاختبار اليومي						
اسم الوحدة	يظهر معرفة ومهارة في التصميم والخياطة والنسيج	السنة الدراسية	2024	الفصل الدراسي	الفصل الاول	التاريخ
مخرج التعلم	يستخدم شريط القياس والمسطرة في رسم المقاس المطلوب	معيان الأداء	يستطيع الطالب وضع المسطرة بشكل مستقيم ورسم خط باستخدام القلم الرصاص على طول المسطرة			
اسم الدرس	رسم خط باستخدام القلم والمسطرة	رقم الدرس	11			
اسم الطالب/ة	عدنان لير	اسم المجموعة	١			
درجة الاختبار	10					
نتيجة الاختبار ١٥					



الدرجات	اسئلة الاختبار	
.....		السؤال الأول
10		ارسم خط مستقيم باستخدام المسطرة على ورقه او قماش

سَطِّحْ لَطَائِفِ رِسْمِ خَطِّ مَسْتَقِيمٍ مَعْرِفَةً

