




الاختبار اليومي							
اسم الوحدة	يظهر معرفة ومهارة في التصميم والخياطة والنسيج	السنة الدراسية	2024	الفصل الدراسي	الفصل الاول	التاريخ	
مخرج التعلم	يستخدم ماكينة الخياطة بطريقة صحيحة وأمنه	معييار الأداء	يثبت ابرة الخياطة بشكل صحيح وأمن				
اسم الدرس	يثبت الإبرة على الماكينة بشكل آمن	رقم الدرس	13				
اسم الطالب/ة	سنت انجر	اسم المجموعة	1				
درجة الاختبار	10						
نتيجة الاختبار ٩						

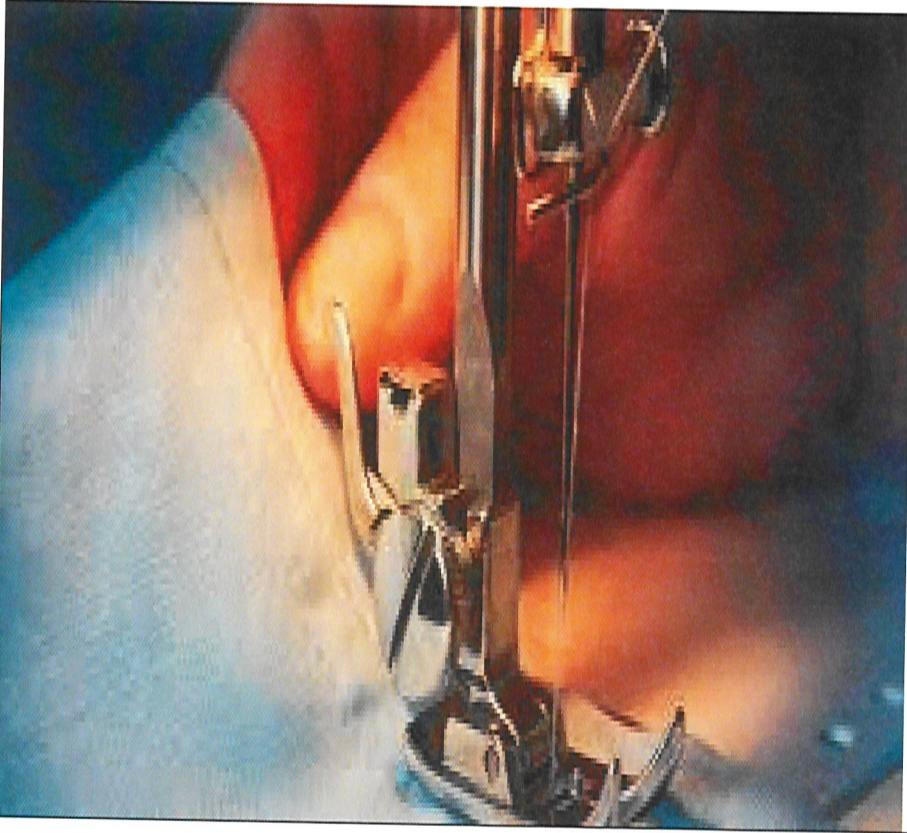


الدرجات	اسئلة الاختبار	
.....		السؤال الأول
10		تطبيق عملي قم بتثبيت الابرة في مكانها الصحيح بالماكينة
		قمساعة جزئية



الاختبار اليومي							
اسم الوحدة	يظهر معرفة ومهارة في التصميم والخياطة والنسيج	السنة الدراسية	2024	الفصل الدراسي	الفصل الاول	التاريخ	
مخرج التعلم	يستخدم ماكينة الخياطة بطريقة صحيحة وآمنه	معيان الأداء	يثبت ابرة الخياطة بشكل صحيح وآمن				
اسم الدرس	يثبت الإبرة على الماكينة بشكل آمن	رقم الدرس	13				
اسم الطالب/ة	سعيد اسعد	اسم المجموعة	9				
درجة الاختبار	10						
نتيجة الاختبار 6						




الدرجات	اسئلة الاختبار	
.....		السؤال الأول
10		تطبيق عملي قم بتثبيت الابرة في مكانها الصحيح بالمكينه
		بمساعدة السيدة كليب



الاختبار اليومي							
اسم الوحدة	يظهر معرفة ومهارة في التصميم والخياطة والنسيج	السنة الدراسية	2024	الفصل الدراسي	الفصل الاول	التاريخ	
مخرج التعلم	يستخدم ماكينة الخياطة بطريقة صحيحة وآمنه	معيان الأداء	يثبت ابرة الخياطة بشكل صحيح وآمن				
اسم الدرس	يثبت الإبرة على الماكينة بشكل آمن	رقم الدرس	13				
اسم الطالب/ة	عبدالله	اسم المجموعة	1				
درجة الاختبار	10						
نتيجة الاختبار	9						

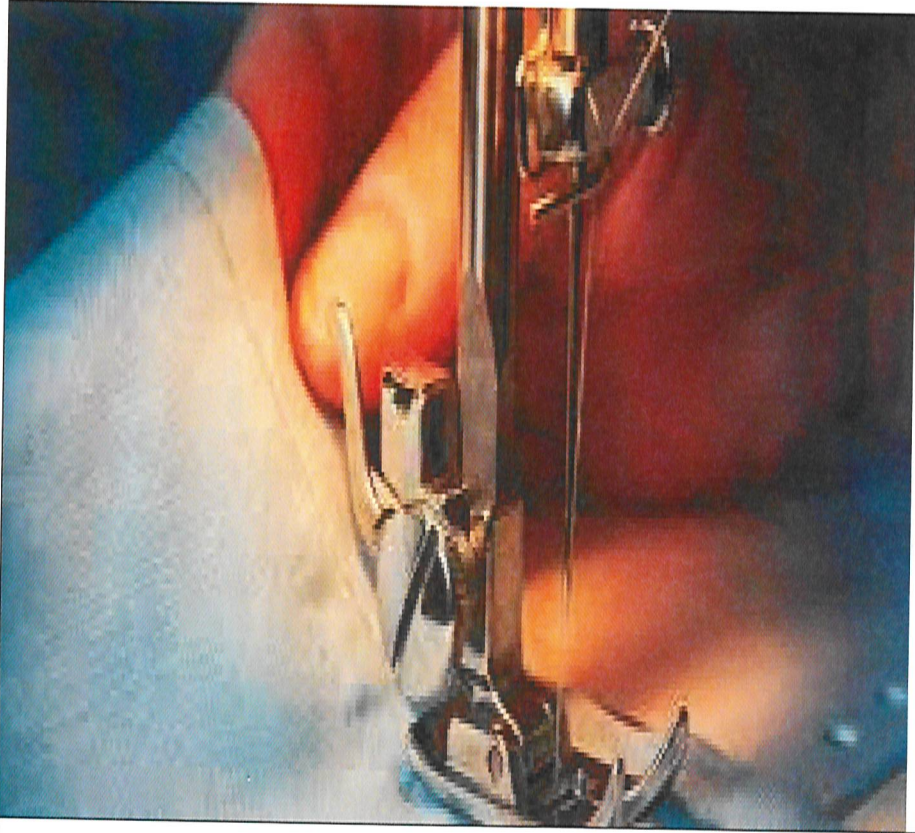


الدرجات	اسئلة الاختبار	
.....		السؤال الأول
10		تطبيق عملي قم بتثبيت الابرة في مكانها الصحيح بالماكينة
		لصناعة جسم لفظية



الاختبار اليومي							
اسم الوحدة	يظهر معرفة ومهارة في التصميم والخيطة والنسيج	السنة الدراسية	2024	الفصل الدراسي	الفصل الاول	التاريخ	
مخرج التعلم	يستخدم ماكينة الخياطة بطريقة صحيحة وأمنه	معيان الأداء	يثبت ابرة الخياطة بشكل صحيح وأمن				
اسم الدرس	يثبت الإبرة على الماكينة بشكل آمن	رقم الدرس	13				
اسم الطالب/ة	مساعدة الخياطة	اسم المجموعة	1				
درجة الاختبار	10						
نتيجة الاختبار 7						



الدرجات	اسئلة الاختبار	
.....		السؤال الأول تطبيق عملي قم بتثبيت الابرة في مكانها الصحيح بالماكينة
10		


طالبة اميرة كلب





الاختبار اليومي						
اسم الوحدة	يظهر معرفة ومهارة في التصميم والخياطة والنسيج	السنة الدراسية	2024	الفصل الدراسي	الفصل الاول	التاريخ
مخرج التعلم	يستخدم ماكينة الخياطة بطريقة صحيحة وأمنه	معيار الأداء	يثبت ابرة الخياطة بشكل صحيح وأمن			
اسم الدرس	يثبت الإبرة على الماكينة بشكل آمن	رقم الدرس	13			
اسم الطالب/ة	نهر منصور	اسم المجموعة	1			
درجة الاختبار			10			
نتيجة الاختبار		 7			



الدرجات	اسئلة الاختبار	
.....		السؤال الأول
10		تطبيق عملي قم بتثبيت الابرة في مكانها الصحيح بالماكينة
	مراجعة الأستاذة نورة	

