





الاختبار اليومي						
اسم الوحدة	يظهر معرفة ومهارة في التصميم والخياطة والنسيج	السنة الدراسية	2024	الفصل الدراسي	الفصل الاول	التاريخ
مخرج التعلم	يستخدم ماكينة الخياطة بطريقة صحيحة وآمنة	معيار الأداء	يثبت القماش تحت الابرة (دواسة قدم الابرة) بطريقة صحيحة وآمنة			
اسم الدرس	يضع القماش تحت مسار الابرة (دواسة قدم الابرة)	رقم الدرس	16			
اسم الطالب/ة	أديب	اسم المجموعة	1			
درجة الاختبار	10					
نتيجة الاختبار	6					

الدرجات	اسئلة الاختبار
.....	
10	 <p>السؤال الأول تطبيق عملي قم بتثبيت القماش تحت الابرة (دواسة قدم الابرة) بطريقة صحيحة وآمنة</p>

		
		
		
		ضع علامة (صح على) الصورة التي تدل على مسار الابرة (دواسة قدم الابرة)