








الاختبار اليومي						
اسم الوحدة	يظهر معرفة ومهارة في التصميم والخياطة والنسيج	السنة الدراسية	2024	الفصل الدراسي	الفصل الاول	التاريخ
مخرج التعلم	يكوي ويغلف الملابس والاقمشة بطريقه صحيحة وآمنة	معيان الأداء	يحضر الأدوات الأساسية المستخدمة لكي الملابس			
اسم الدرس	الادوات الخاصة لكي الملابس	رقم الدرس	21			
اسم الطالب/ة	اديب	اسم المجموعة	1			
درجة الاختبار	10					
نتيجة الاختبار	+					

2
fi

ization
nination



مؤسسة زايد العليا
لأصحاب الهمم

الدرجات	اسئلة الاختبار	
.....		
5	  	 

السؤال
الأول

حدد صورة
المكواه
البخارية

5



السؤال
الثاني
مميز أدوات
الكوي في
الصور
التالية