






الاختبار اليومي						
اسم الوحدة	يظهر معرفة ومهارة في التصميم والخياطة والنسيج	السنة الدراسية	2024	الفصل الدراسي	الفصل الاول	التاريخ
مخرج التعلم	يستخدم ماكينة النسيج بطريقة صحيحة وأمنة	معيان الأداء	يحضر المواد الأساسية المستخدمة في الماكينة لحياكة منتج محدد			
اسم الدرس	المواد الأساسية للحياكة	رقم الدرس	29			
اسم الطالب/ة	بشير	اسم المجموعة	1			
درجة الاختبار	10					
نتيجة الاختبار	V					

الدرجات	اسالة الاختبار	
.....	  	السؤال الأول حدد المواد اللازمة لحياكة قبعه
5		السؤال الثاني تطبيق عملي يحضر الطالب المواد المناسبة لحياكة منتج

Zayed Higher Organization
for People of Determination



مؤسسة زايد العليا
لأصحاب الهمم

--	--	--

