








الاختبار اليومي							
اسم الوحدة	يظهر معرفة ومهارة في التصميم والخياطة والنسيج	السنة الدراسية	2024	الفصل الدراسي	الفصل الاول	التاريخ	
مخرج التعلم	يستخدم ماكينة النسيج بطريقة صحيحة وأمنة	معيان الأداء	يستخدم أدوات المناسبة لحياكة المنتج المحدد بطريقة صحيحة وامنه				
اسم الدرس	الادوات المناسبة لحياكة منتج	رقم الدرس	30				
اسم الطالب/ة	أديب	اسم المجموعة	1				
درجة الاختبار	10						
نتيجة الاختبار	V						

الدرجات	اسئلة الاختبار	
.....	السؤال الأول	
5	    	اختر المواد اللازمة لحياكة قبعه



		السؤال الثاني
5		تطبيق عملي يحضر الطالب المواد المناسبة لحياكة منتج

