



اختبار 2			
اسم الوحدة	يُطبق المفاهيم الرياضية والعمليات الحسابية	مخرج التعلم	• يميز الأرقام ومقاديرها من 1- 1000
معيار الأداء	يعد الأرقام من 1 - 1000	السنة الدراسية / الفصل الدراسي	2023
اسم الطالب/ة	د. ب. ح. ا. ب.	اسم المجموعة	المجموعة ٧1 - التعليم والتدريب المهني - السنة الأولى
اسم الوحدة		مخرج التعلم	• يميز الأرقام ومقاديرها من 1- 1000
معيار الأداء	يعد الأرقام من 1 - 1000	السنة الدراسية / الفصل الدراسي	2023
اسم الطالب/ة	د. ب. ح. ا. ب.	اسم المجموعة	المجموعة ٧1 - التعليم والتدريب المهني - السنة الأولى





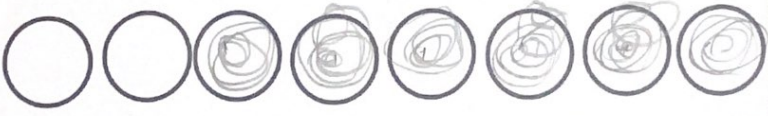


أسئلة الاختبار

السؤال الأول	يتعرف على الأرقام 1-10
السؤال الثاني	يميز الأرقام 1-10



الأسم دبيع حارب

لون عدد دوائر حسب الرقم:-

	3
	7
	8
	5
	6
	9
	10