




الدرس رقم 10: رسم الاشكال الهندسية


اختبار تقويمي 1

اسم الوحدة		يُطبق المفاهيم الرياضية والعمليات الحسابية	مخرج التعلم	• جميع المخرجات المنجزة
اسم الطالب/ة	عبد الوارث اليعين	اسم المجموعة	٢٣ مدينته زايد	
معيار الأداء	جميع المعايير المنجز	السنة الدراسية / الفصل الدراسي	2023	الفصل الاول

90 %

أسئلة الاختبار

السؤال الأول	ميز الارقام التالية - عد الارقام من 1. الى 50. قم بالعمليات التالية باستخدام الالة
السؤال الثاني	صل الاشكال التالية بما يناسبها - ارسم الشكل المحدد باستخدام المسطرة 






الدرس رقم 10: رسم الاشكال الهندسية

اختبار تقويمي 1

اسم الوحدة		يُطبق المفاهيم الرياضية والعمليات الحسابية	مخرج التعلم	• جميع المخرجات المنجزة
اسم الطالب/ة	البراء محمد	اسم المجموعة	٢٣	مدينة زايد
معيار الأداء	جميع المعايير المنجز	السنة الدراسية / الفصل الدراسي	2023	الفصل الاول

١/٩٥

أسئلة الاختبار

السؤال الأول	ميز الارقام التالية - عد الارقام من ١.. الى ٦٠ - قم بالعمليات التالية باستخدام الالة
السؤال الثاني	صل الاشكال التالية بما يناسبها - ارسم الشكل المحدد باستخدام المسطرة 

~~محمد محمد~~



الدرس رقم 10: رسم الاشكال الهندسية

اختبار تقويمي 1

اسم الوحدة		يُطبق المفاهيم الرياضية والعمليات الحسابية	مخرج التعلم	• جميع المخرجات المنجزة
معيار الأداء	جميع المعايير المنجز	السنة الدراسية / الفصل الدراسي	2023	الفصل الاول
اسم الطالب/ة	محمد المصري	اسم المجموعة	٢٣	مدينة زايد

٩٥٪

أسئلة الاختبار

السؤال الأول	ميز الارقام التالية - عد الارقام من 1. الى 5.0 - قم بالعمليات التالية باستخدام الالة
السؤال الثاني	صل الاشكال التالية بما يناسبها - ارسم الشكل المحدد باستخدام المسطرة 