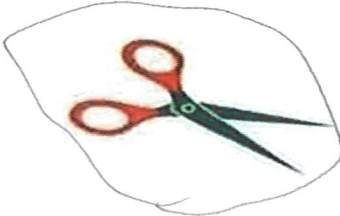
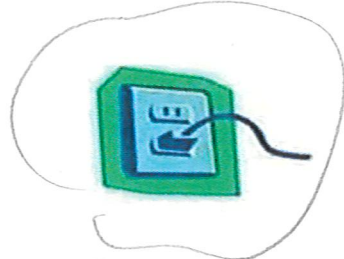
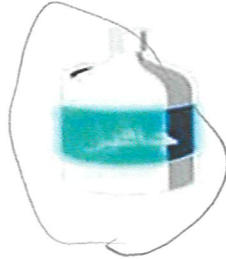


الامن والسلامة الدرس رقم 10: تصنيف الأدوات و المواد الخطرة

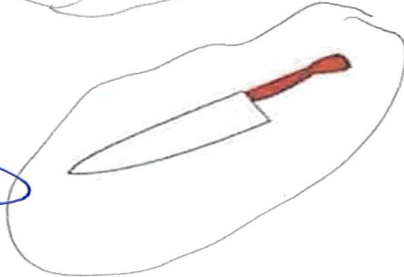
نموذج اختبار			
اسم الوحدة	يلتزم بقواعد الأمن والسلامة	مخرج التعلم	• يميز الأدوات والمواد والمعدات الخطرة بطريقة صحيحة وآمنة
معيار الأداء	• يصف الأدوات والمواد الخطرة. • ينقل الأدوات والمواد الخطرة الخاصة بالعمل عند الانتهاء منها إلى المكان الصحيح.	السنة الدراسية / الفصل الدراسي	2023 الفصل الأول
اسم الطالب/ة	البراء صحر اسامة	اسم المجموعة	٢٣ عديبة زايد

أسئلة الاختبار	
السؤال الأول	حدد الادوات الخطرة في الصورة.

٩٥ %



احمد السمانع

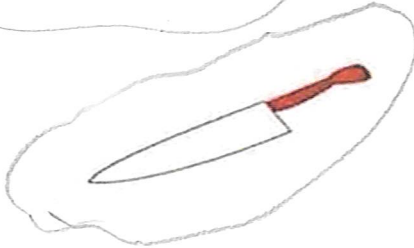
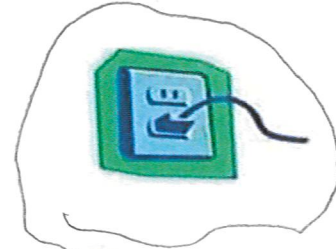


الامن والسلامة الدرس رقم 10: تصنيف الأدوات و المواد الخطرة

نموذج اختبار			
اسم الوحدة	يلتزم بقواعد الأمن والسلامة	مخرج التعلم	• يميز الأدوات والمواد والمعدات الخطرة بطريقة صحيحة وآمنة
معيار الأداء	• يصنف الأدوات والمواد الخطرة. • ينقل الأدوات والمواد الخطرة الخاصة بالعمل عند الانتهاء منها إلى المكان الصحيح.	السنة الدراسية / الفصل الدراسي	2023 الفصل الأول
اسم الطالب/ة	محمد المنصور	اسم المجموعة	Y3 عديبة زايد

أسئلة الاختبار	
السؤال الأول	حدد الادوات الخطرة في الصورة.

Y.100



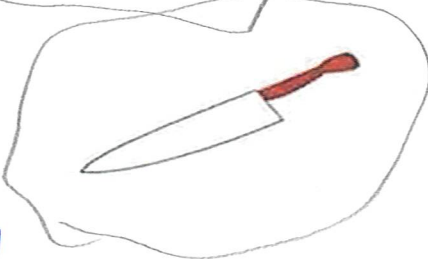

امير الكندي

الامن والسلامة الدرس رقم 10: تصنيف الأدوات و المواد الخطرة

نموذج اختبار			
اسم الوحدة	يلتزم بقواعد الأمن والسلامة	مخرج التعلم	• يميز الأدوات والمواد والمعدات الخطرة بطريقة صحيحة وأمنة
معيار الأداء	• يصنف الأدوات والمواد الخطرة. • ينقل الأدوات والمواد الخطرة الخاصة بالعمل عند الانتهاء منها إلى المكان الصحيح.	السنة الدراسية / الفصل الدراسي	2023 الفصل الأول
اسم الطالب/ة	عبد الورود الامين	اسم المجموعة	٢٣ مدينة زايد

أسئلة الاختبار	
السؤال الأول	حدد الادوات الخطرة في الصورة.

٧.١٥٦



امتحان