



نموذج اختبار الامن والسلامة 15

اسم الوحدة	يلتزم بقواعد الأمن والسلامة	مخرج التعلم	• يطبق إجراءات الطوارئ والإخلاء
معيار الأداء	يتميز حالات الطوارئ الأساسية في مكان العمل	السنة الدراسية / الفصل الدراسي	2023 الفصل الأول
اسم الطالب/ة	هاله سهيل	اسم المجموعة	

اختبار

السؤال الأول	اختار صورة باب الطوارئ من بين عدة صور
--------------	---------------------------------------





نموذج اختبار الامن والسلامة 15

اسم الوحدة	يلتزم بقواعد الأمن والسلامة	مخرج التعلم	• يطبق إجراءات الطوارئ والإخلاء
معيار الأداء	يميز حالات الطوارئ الأساسية في مكان العمل	السنة الدراسية / الفصل الدراسي	2023 الفصل الأول
اسم الطالب/ة	عائشة شير	اسم المجموعة	

اختبار

السؤال الأول	اختار صورة باب الطوارئ من بين عدة صور
--------------	---------------------------------------




نموذج اختبار الامن والسلامة 15

اسم الوحدة	يلتزم بقواعد الأمن والسلامة	مخرج التعلم	• يطبق إجراءات الطوارئ والإخلاء
معيار الأداء	يتميز حالات الطوارئ الأساسية في مكان العمل	السنة الدراسية / الفصل الدراسي	2023 الفصل الأول
اسم الطالب/ة	ساره خديجة	اسم المجموعة	

اختبار

اختار صورة باب الطوارئ من بين عدة صور

السؤال الأول






نموذج اختبار الامن والسلامة 15

اسم الوحدة	يلتزم بقواعد الأمن والسلامة	مخرج التعلم	• يطبق إجراءات الطوارئ والإخلاء
معيار الأداء	يتميز حالات الطوارئ الأساسية في مكان العمل	السنة الدراسية / الفصل الدراسي	2023 الفصل الأول
اسم الطالب/ة	فاطمة محمد	اسم المجموعة	

اختبار

السؤال الأول	اختار صورة باب الطوارئ من بين عدة صور
--------------	---------------------------------------





نموذج اختبار الامن والسلامة 15

اسم الوحدة	يلتزم بقواعد الأمن والسلامة	مخرج التعلم	• يطبق إجراءات الطوارئ والإخلاء
معيار الأداء	يتميز حالات الطوارئ الأساسية في مكان العمل	السنة الدراسية / الفصل الدراسي	2023 الفصل الأول
اسم الطالب/ة	مزنة سالم	اسم المجموعة	

اختبار

السؤال الأول	اختار صورة باب الطوارئ من بين عدة صور
--------------	---------------------------------------



نموذج اختبار الامن والسلامة 15

اسم الوحدة	يلتزم بقواعد الأمن والسلامة	مخرج التعلم	• يطبق إجراءات الطوارئ والإخلاء
معيار الأداء	يتميز حالات الطوارئ الأساسية في مكان العمل	السنة الدراسية / الفصل الدراسي	2023
اسم الطالب/ة	سلامة محمود	اسم المجموعة	الفصل الأول

اختبار

السؤال الأول	اختار صورة باب الطوارئ من بين عدة صور
--------------	---------------------------------------

