




اختبار تقويي 1


• يقيس المساحات والأطوال		مخرج التعلم	يُطبق المفاهيم الرياضية والعمليات الحسابية	اسم الوحدة
الأول	2023	السنة الدراسية / الفصل الدراسي	-يفرق بين وحدات القياس: (المتر - سم) -يقيس الأطوال المختلفة	معيار الأداء
1		اسم المجموعة	سعود	اسم الطالب/ة

أسئلة الاختبار

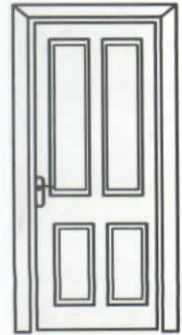
السؤال الأول	اختر وحدة القياس المناسبة (متر - سم) للصورة المحددة .
السؤال الثاني	قس القطعة المحددة بشرط القياس



سم متر



سم متر



سم متر






اختبار تقويمي 1


• يقيس المساحات والأطوال		مخرج التعلم	يُطبق المفاهيم الرياضية والعمليات الحسابية	اسم الوحدة
الأول	2023	السنة الدراسية / الفصل الدراسي	- يفرق بين وحدات القياس: (المتر - سم) - يقيس الأطوال المختلفة	معياري الأداء
1		اسم المجموعة	أديب	اسم الطالب/ة

أسئلة الاختبار


السؤال الأول	اختر وحدة القياس المناسبة (متر - سم) للصور المحددة .
السؤال الثاني	قس القطعة المحددة بشرط القياس



سم متر



سم متر



سم متر






اختبار تقويمي 1

• يقيس المساحات والأطوال		مخرج التعلم	يُطبق المفاهيم الرياضية والعمليات الحسابية	اسم الوحدة
الأول	2023	السنة الدراسية / الفصل الدراسي	- يفرق بين وحدات القياس: (المتر - سم) - يقيس الأطوال المختلفة	معيار الأداء
1		اسم المجموعة	يسر	اسم الطالب/ة


أسئلة الاختبار

السؤال الأول	اختر وحدة القياس المناسبة (متر - سم) للصور المحددة .
السؤال الثاني	قس القطعة المحددة بشرط القياس


40%
هبة الحجارة



سم متر



سم متر



سم متر





اختبار تقويمي 1

• يقيس المساحات والأطوال		مخرج التعلم	يُطبق المفاهيم الرياضية والعمليات الحسابية	اسم الوحدة
الأول	2023	السنة الدراسية / الفصل الدراسي	- يفرق بين وحدات القياس: (المتر - سم) - يقيس الأطوال المختلفة	معيار الأداء
1		اسم المجموعة	حيث	اسم الطالب/ة


أسئلة الاختبار

اختر وحدة القياس المناسبة (متر - سم) للصور المحددة .	السؤال الأول
قس القطعة المحددة بشرط القياس	السؤال الثاني


10%



سم متر



سم متر



سم متر

