

اختبار تقويمي 1

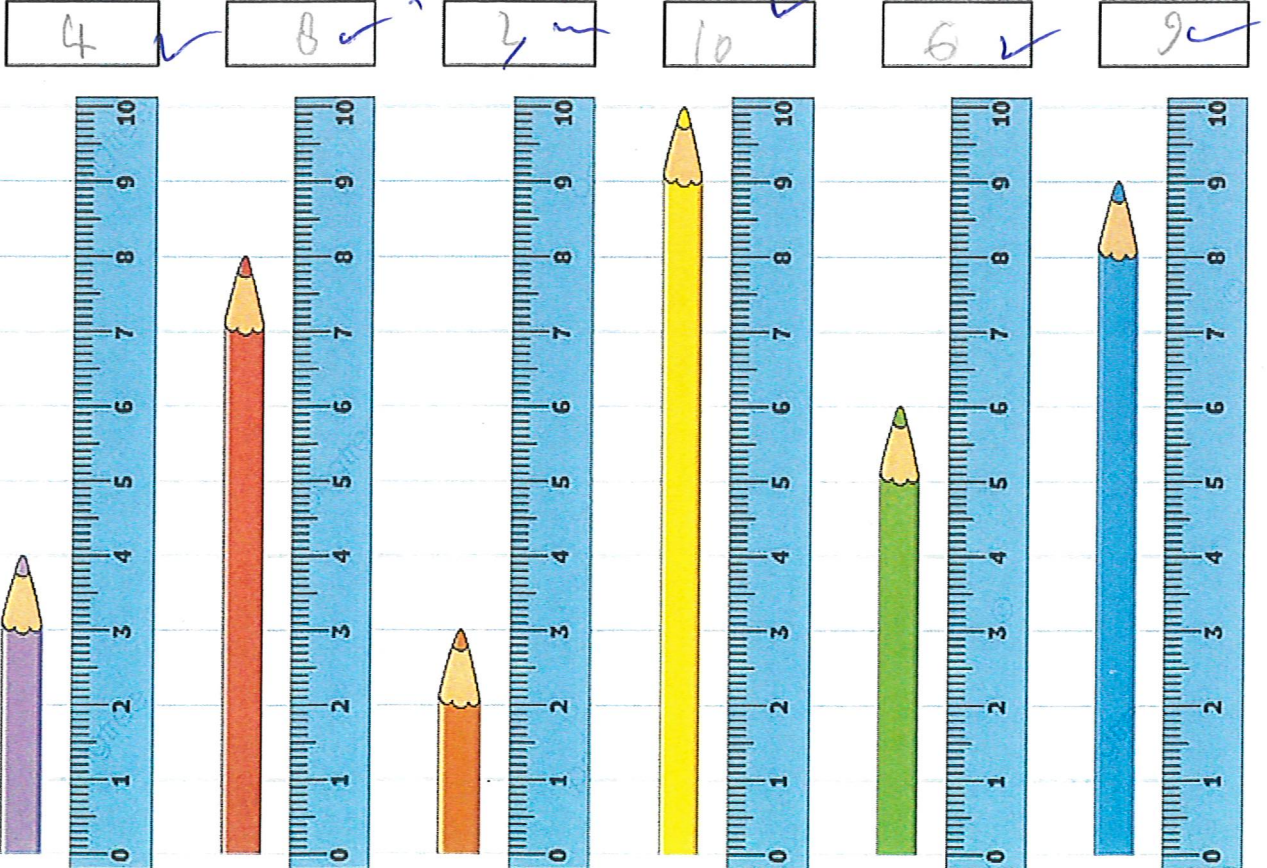
اسم الوحدة		يُطبق المفاهيم الرياضية والعمليات الحسابية	مخرج التعلم	• يقيس المساحات والأطوال
اسم الطالب/ة		لا علة الله	اسم المجموعة	المادة 2023 23 صديقه ايه
معيار الأداء		- يستخدم المسطرة لقياس الأطوال عندما يطلب منه ذلك. - يقيس المساحات عن طريق عد المربعات	السنة الدراسية / الفصل الدراسي	الفصل الأول
اسم الوحدة		اسم المجموعة	مخرج التعلم	• يقيس المساحات والأطوال

أسئلة الاختبار

السؤال الأول	قس طول الأشياء المحدد امامك .
السؤال الثاني	استخدم عدد المربعات ليجاد مساحة الشكل امامك .

١/ 90

امير الحمادي




### اختبار تقويمي 1

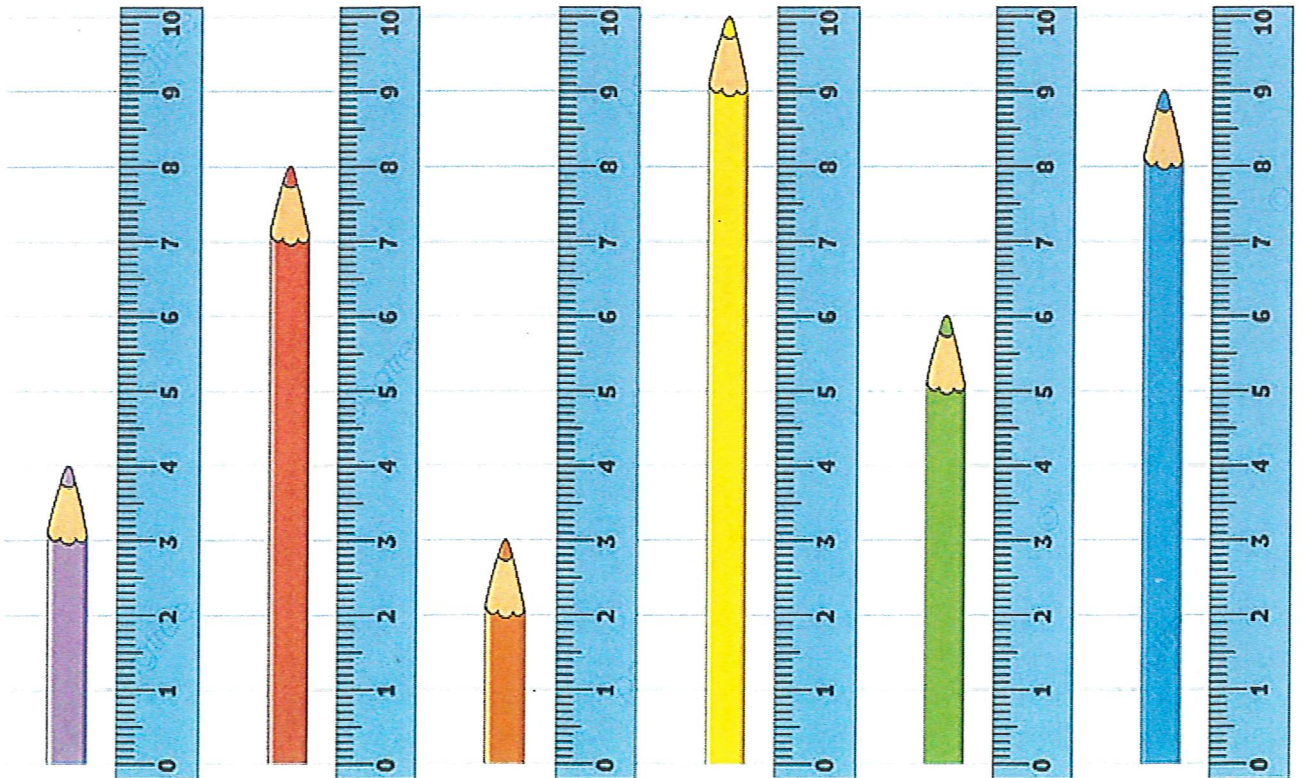
اسم الوحدة		يُطبق المفاهيم الرياضية والعمليات الحسابية	مخرج التعلم	• يقيس المساحات والأطوال
معيار الأداء		- يستخدم المسطرة لقياس الأطوال عندما يطلب منه ذلك. - يقيس المساحات عن طريق عد المربعات	السنة الدراسية / الفصل الدراسي	2023
اسم الطالب/ة		البراءة محمد	اسم المجموعة	٢٣ مدرسة زايد

### أسئلة الاختبار

السؤال الأول	قيس طول الأشياء المحدد امامك .
السؤال الثاني	استخدم عدد المربعات لإيجاد مساحة الشكل امامك .



4 ✓ 8 ✓ 3 ✓ 70 ✓ 6 ✓ 9 ✓





اختبار تقويمي 1

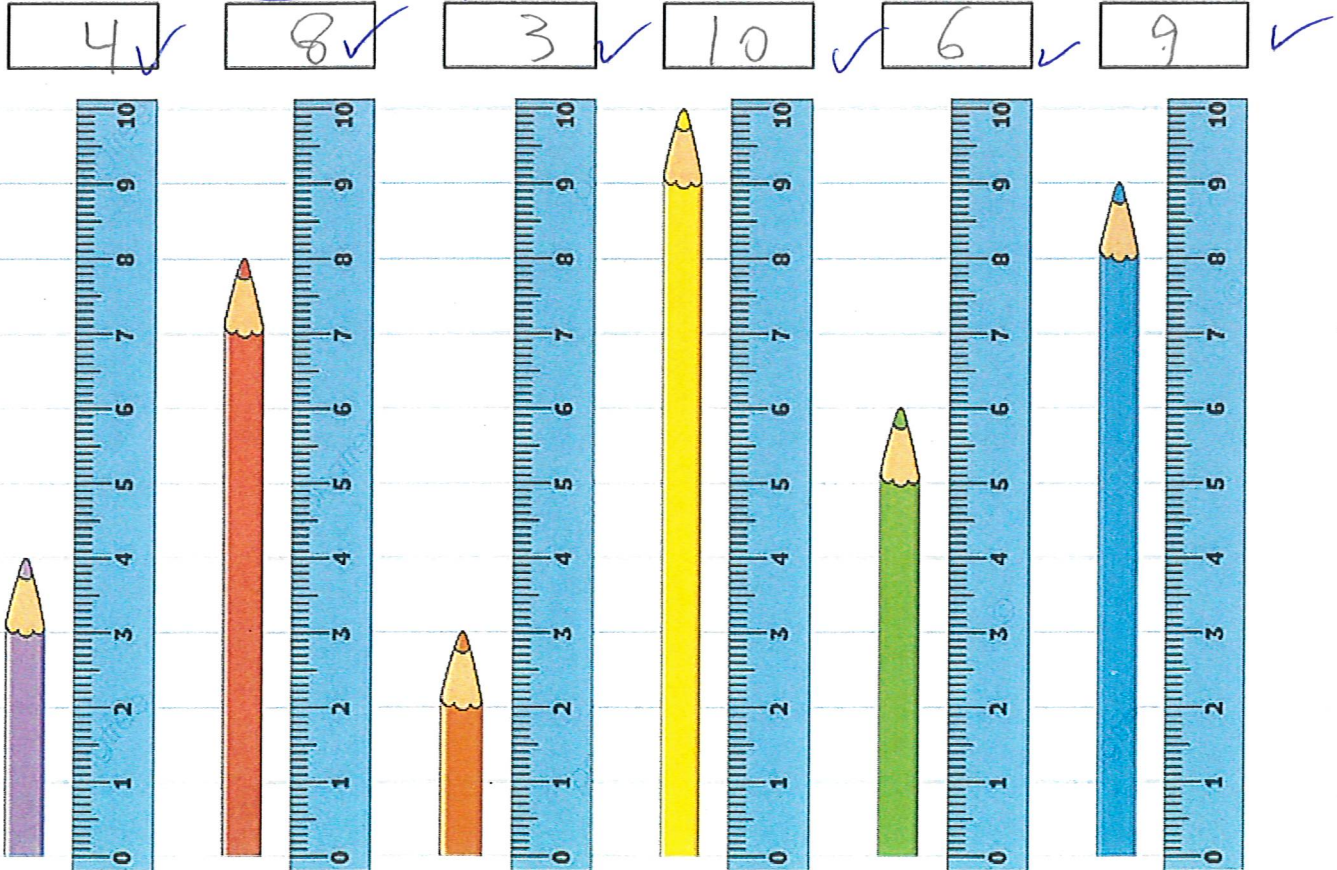
• يقيس المساحات والأطوال		مخرج التعلم	يُطبق المفاهيم الرياضية والعمليات الحسابية	اسم الوحدة
الفصل الاول	2023	السنة الدراسية / الفصل الدراسي	-يستخدم المسطرة لقياس الأطوال عندما يطلب منه ذلك. -يقيس المساحات عن طريق عد المربعات	معيار الأداء
3 عبدالله زايه		اسم المجموعة	عبد الورود محمد	اسم الطالب/ة

أسئلة الاختبار

السؤال الأول	قيس طول الأشياء المحدد امامك .
السؤال الثاني	استخدم عدد المربعات ليجاد مساحة الشكل امامك .

100 ✓

اجابات

















الدرس رقم 13: وحدات القياس

الاسم: عبدالوهاب محمد الامين

## Measuring in Centimetres and Line Plot

Directions: Measure the length of each crayon in centimetres and write your answer in the space provided.

1.		4.5
2.		9.5
3.		7.5
4.		3.5
5.		5
6.		9.5
7.		4.5
8.		3.5
9.		5.5
10.		5.5
11.		4.5
12.		2

















الدرس رقم 13: وحدات القياس

الاسم: محمد عبد الله المنصوري

## Measuring in Centimetres and Line Plot

Directions: Measure the length of each crayon in centimetres and write your answer in the space provided.

1.		495
2.		995
3.		795
4.		395
5.		5
6.		915
7.		495
8.		395
9.		595
10.		595
11.		495
12.		2