

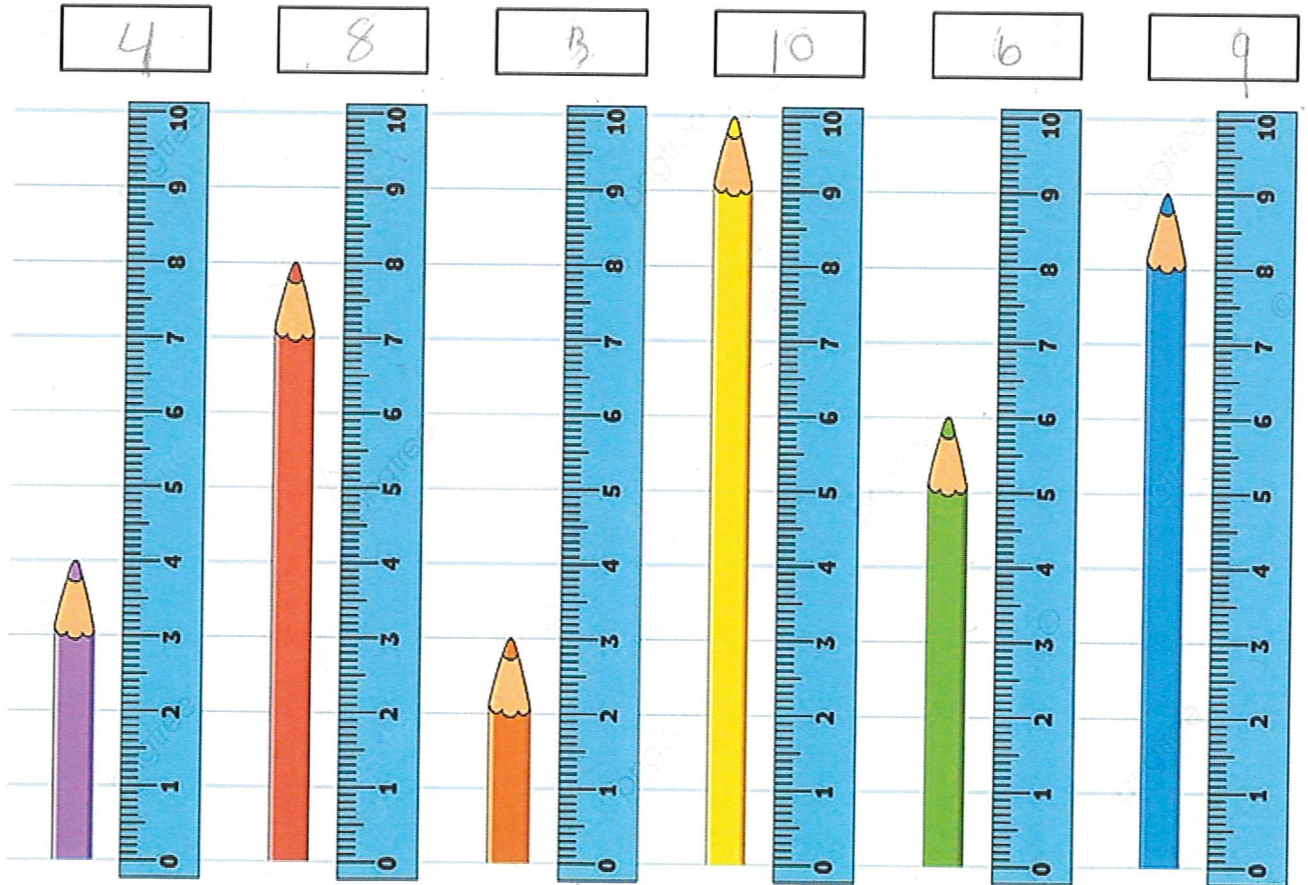
الدرس رقم 13: قياس الأطوال والمساحات

اختبار تقويي 1

اسم الوحدة	يُطبق المفاهيم الرياضية والعمليات الحسابية	مخرج التعلم	• يقيس المساحات والأطوال
معيار الأداء	- يستخدم المسطرة لقياس الأطوال عندما يطلب منه ذلك. - يقيس المساحات عن طريق عد المربعات	السنة الدراسية / الفصل الدراسي	
اسم الطالب/ة	زينب عمران	اسم المجموعة	

أسئلة الاختبار

السؤال الأول	قس طول الأشياء المحدد امامك .
السؤال الثاني	استخدم عدد المربعات لايجاد مساحة الشكل امامك .

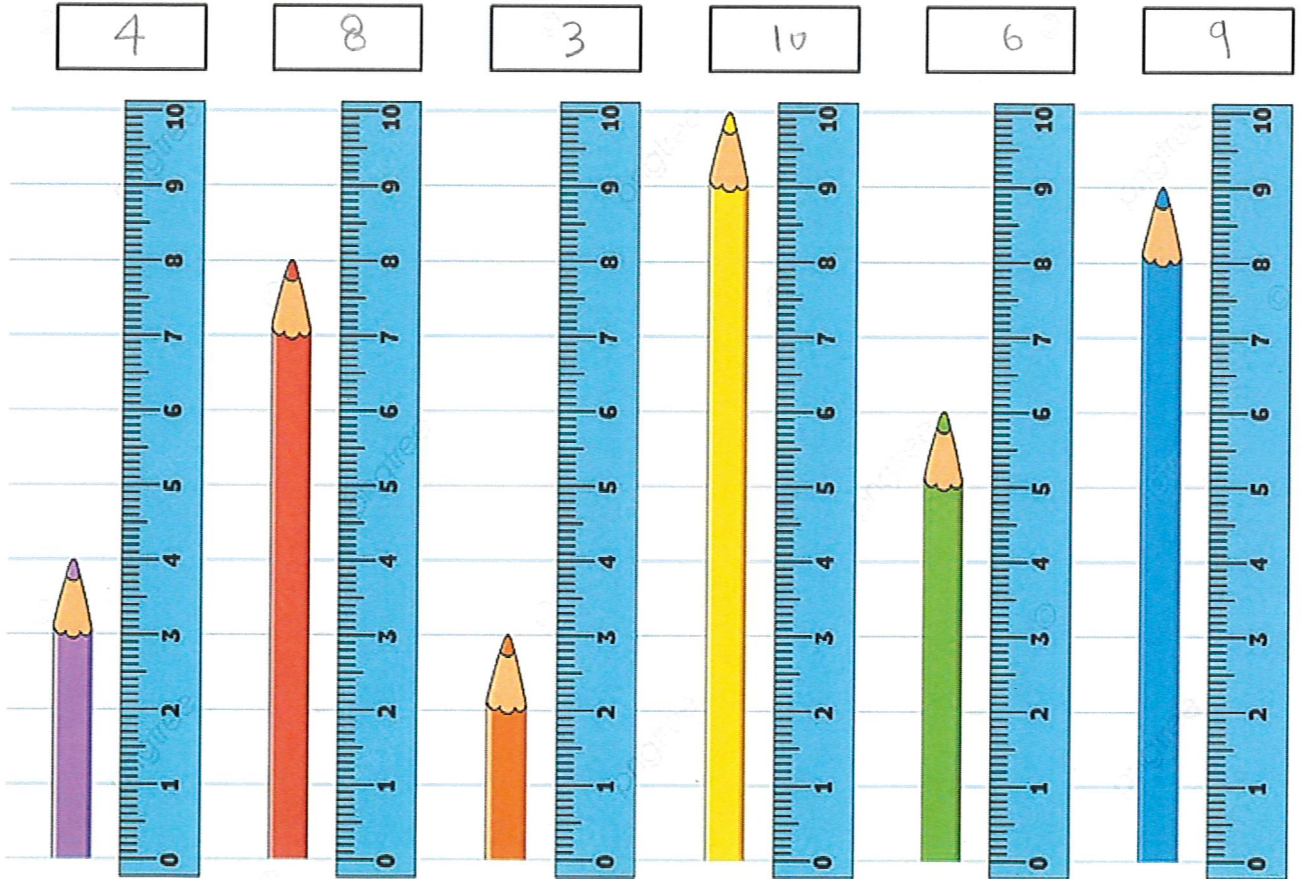


اختبار تقويمي 1

اسم الوحدة	يُطبق المفاهيم الرياضية والعمليات الحسابية	مخرج التعلم	• يقيس المساحات والأطوال
اسم الطالب/ة	فاخره علي	اسم المجموعة	
معيار الأداء	- يستخدم المسطرة لقياس الأطوال عندما يطلب منه ذلك. - يقيس المساحات عن طريق عد المربعات	السنة الدراسية / الفصل الدراسي	

أسئلة الاختبار

السؤال الأول	قيس طول الأشياء المحدد امامك .
السؤال الثاني	استخدم عدد المربعات لايجاد مساحة الشكل امامك .



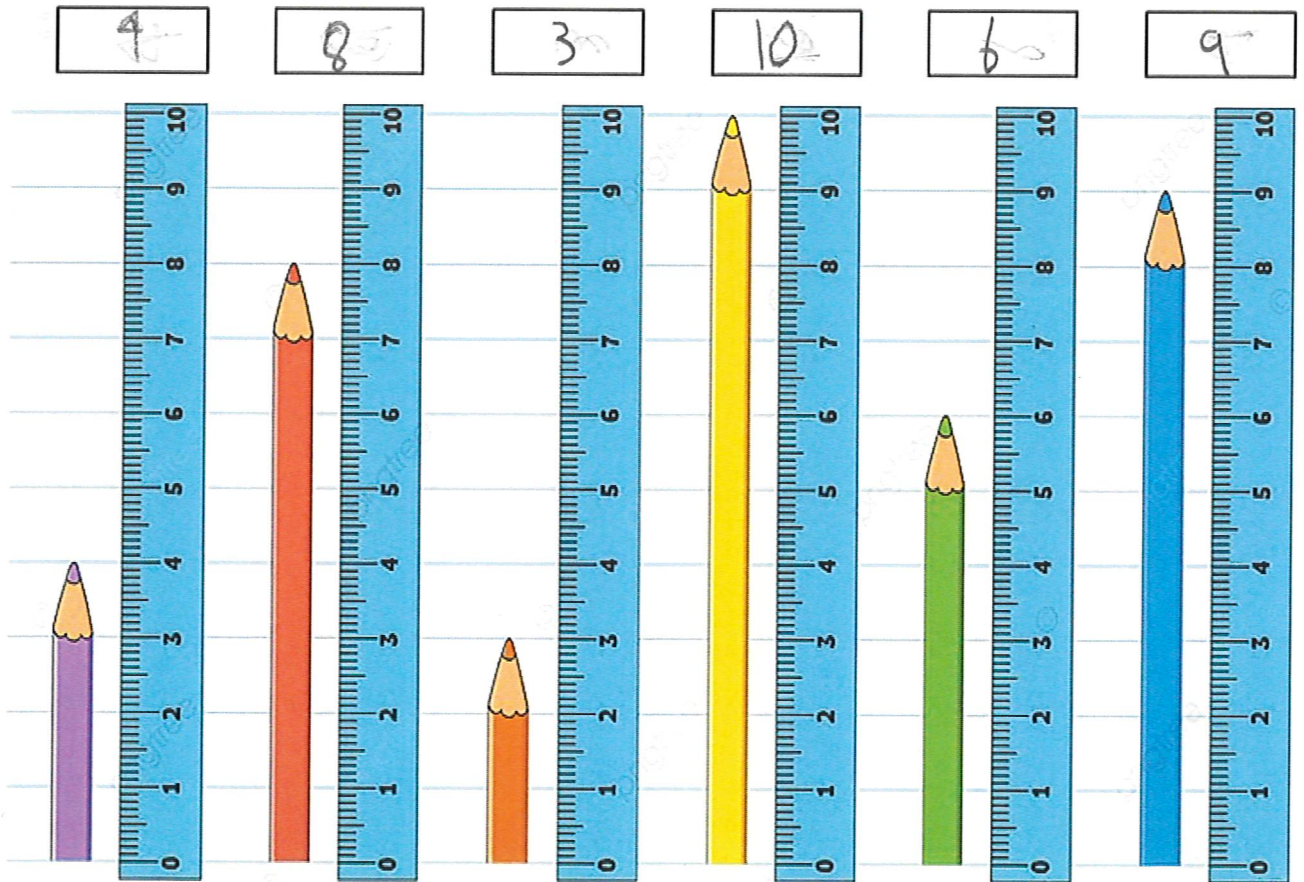
الدرس رقم 13: قياس الأطوال والمساحات

اختبار تقويمي 1

اسم الوحدة	يُطبق المفاهيم الرياضية والعمليات الحسابية	مخرج التعلم	• يقيس المساحات والأطوال
معيار الأداء	-يستخدم المسطرة لقياس الأطوال عندما يطلب منه ذلك. -يقيس المساحات عن طريق عد المربعات	السنة الدراسية / الفصل الدراسي	
اسم الطالب/ة	سحر سالم	اسم المجموعة	

أسئلة الاختبار

السؤال الأول	قس طول الأشياء المحدد امامك .
السؤال الثاني	استخدم عدد المربعات لاجاد مساحة الشكل امامك .

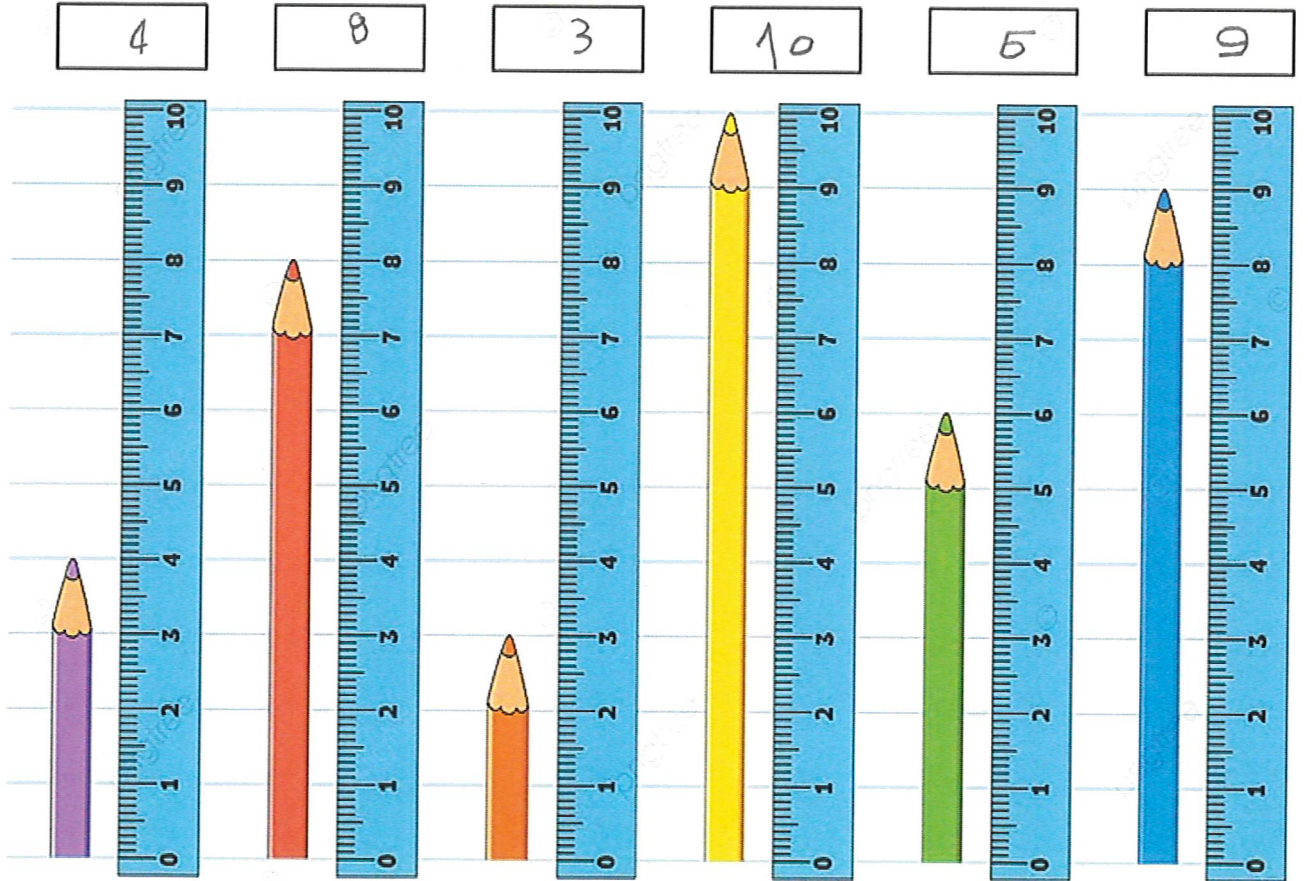


اختبار تقويمي 1

اسم الوحدة	يُطبق المفاهيم الرياضية والعمليات الحسابية	مخرج التعلم	• يقيس المساحات والأطوال
معيار الأداء	- يستخدم المسطرة لقياس الأطوال عندما يطلب منه ذلك. - يقيس المساحات عن طريق عد المربعات	السنة الدراسية / الفصل الدراسي	
اسم الطالب/ة	زهرة سالم	اسم المجموعة	

أسئلة الاختبار

السؤال الأول	قس طول الأشياء المحدد امامك .
السؤال الثاني	استخدم عدد المربعات ليجاد مساحة الشكل امامك .



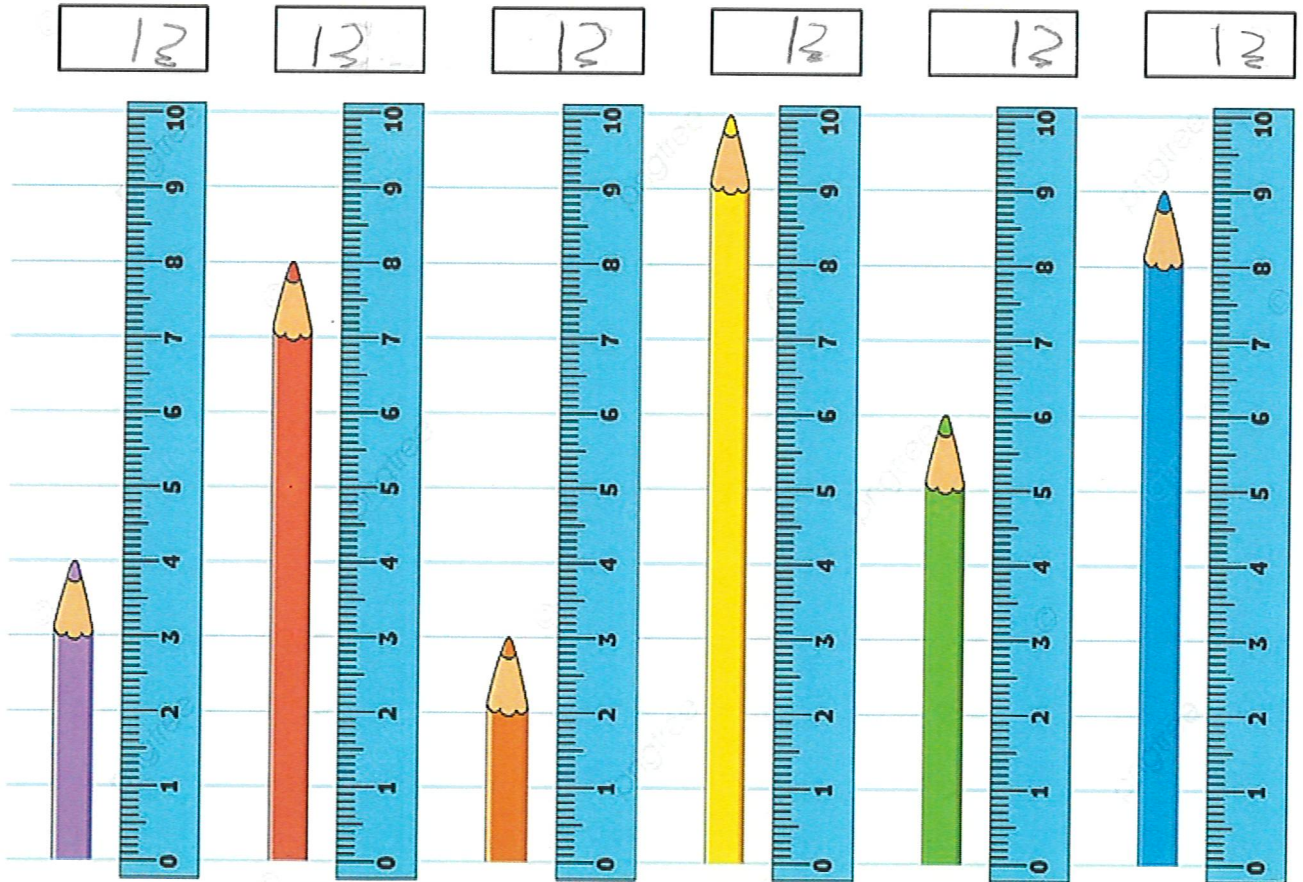
الدرس رقم 13: قياس الأطوال والمساحات

اختبار تقويمي 1

اسم الوحدة	يُطبق المفاهيم الرياضية والعمليات الحسابية	مخرج التعلم	• يقيس المساحات والأطوال
معيار الأداء	- يستخدم المسطرة لقياس الأطوال عندما يطلب منه ذلك. - يقيس المساحات عن طريق عد المربعات	السنة / الدراسية / الفصل الدراسي	
اسم الطالب/ة	بجته محمد	اسم المجموعة	

أسئلة الاختبار

السؤال الأول	قس طول الأشياء المحدد امامك .
السؤال الثاني	استخدم عدد المربعات لاجاد مساحة الشكل امامك .



الدرس رقم 13: قياس الأطوال والمساحات

اختبار تقويمي 1

اسم الوحدة	يُطبق المفاهيم الرياضية والعمليات الحسابية	مخرج التعلم	• يقيس المساحات والأطوال
معيار الأداء	- يستخدم المسطرة لقياس الأطوال عندما يطلب منه ذلك. - يقيس المساحات عن طريق عد المربعات	السنة الدراسية / الفصل الدراسي	
اسم الطالب/ة	مريم محمد	اسم المجموعة	

أسئلة الاختبار

السؤال الأول	قس طول الأشياء المحدد امامك .
السؤال الثاني	استخدم عدد المربعات ليجاد مساحة الشكل امامك .

