

مساحة مجسم ثلاثي الأبعاد 14

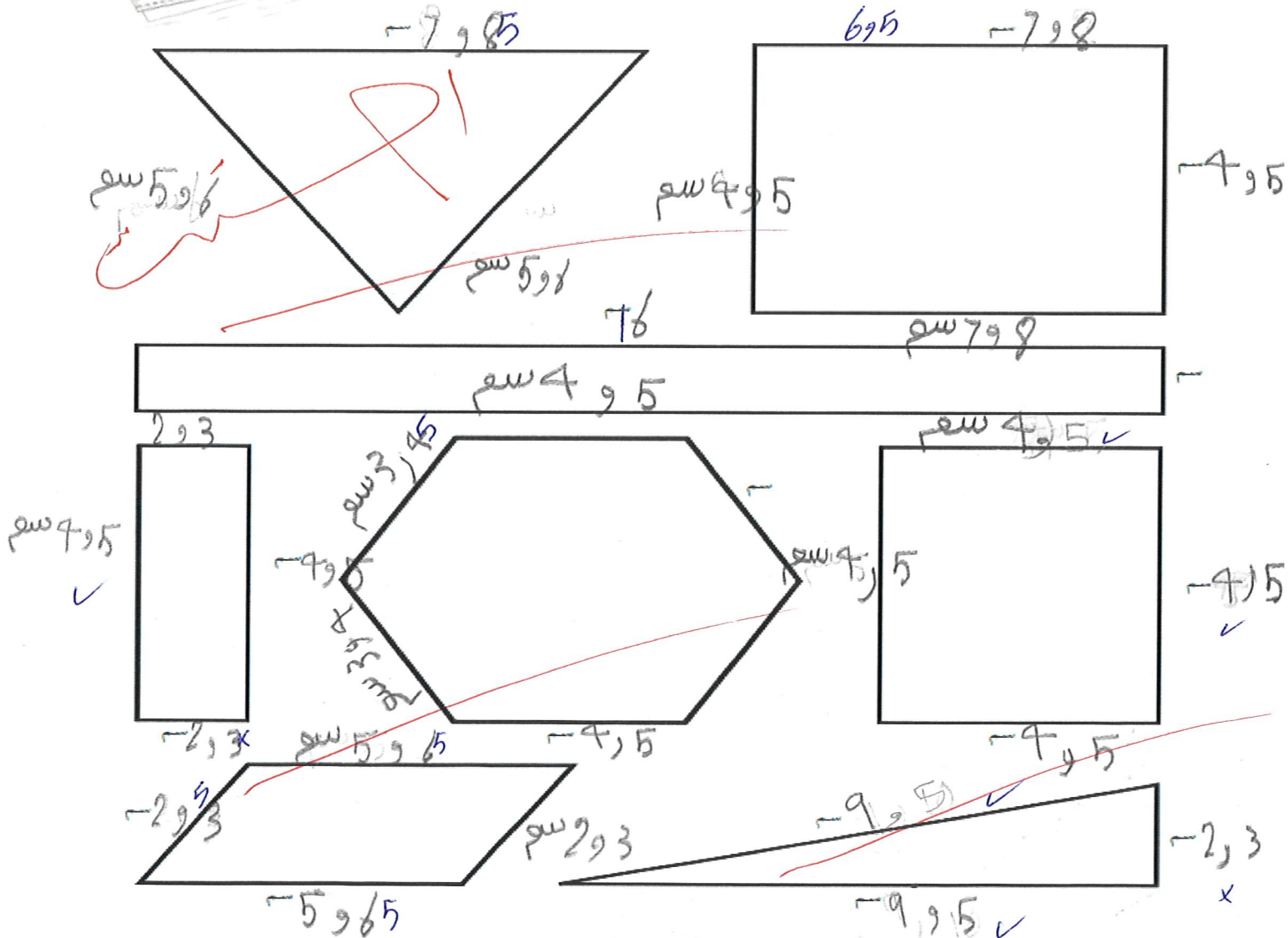

اختبار تقويمي 1

اسم الوحدة	يُطبق المفاهيم الرياضية والعمليات الحسابية	مخرج التعلم	• يقيس المساحات والأطوال
معياري الأداء	- يقيس مساحة مجسم ثلاثي الأبعاد	السنة الدراسية / الفصل الدراسي	
اسم الطالب/ة	الحسامي	اسم المجموعة	

أسئلة الاختبار

السؤال الأول	قس مساحة المجسم امامك .
--------------	-------------------------

باستخدام المسطرة، قم بقياس جوانب كل شكل لحساب المحيط. واضعاً قياس طول كل جانب بالسنتمتر والملليمتر. اكتب النتائج في دفترك.




مساحة مجسم ثلاثي الأبعاد 14

اختبار تقويمي 1

اسم الوحدة	يُطبق المفاهيم الرياضية والعمليات الحسابية	مخرج التعلم	• يقيس المساحات والأطوال
معيار الأداء	- يقيس مساحة مجسم ثلاثي الأبعاد	السنة الدراسية / الفصل الدراسي	
اسم الطالب/ة	فاخره علي	اسم المجموعة	

أسئلة الاختبار


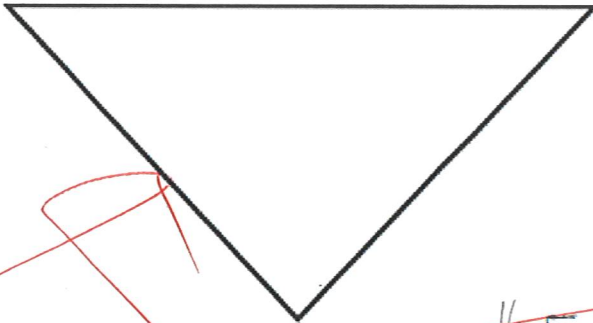
السؤال الأول	قس مساحة المجسم امامك .
--------------	-------------------------




باستخدام المسطرة، قم بقياس جوانب كل شكل لحساب المحيط. واضعاً قياس طول كل جانب بالسنتيمتر والمليمتر. اكتب النتائج في دفترك.

7,5 سم

6,95 سم



4.95 سم

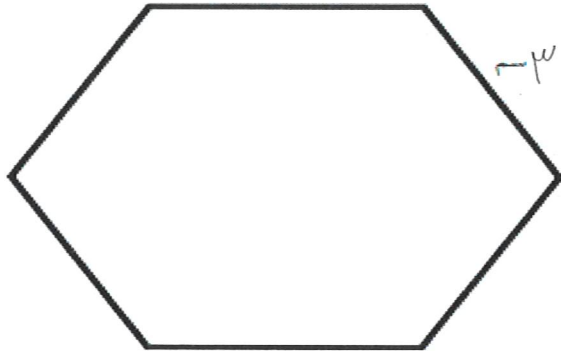


1 سم




12 سم

1 سم



3 سم

5 سم



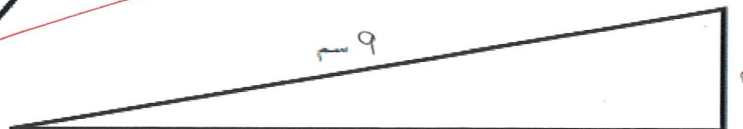
5 سم

4 سم



4 سم

6 سم



9 سم

8 سم

2 سم



مساحة مجسم ثلاثي الأبعاد 14

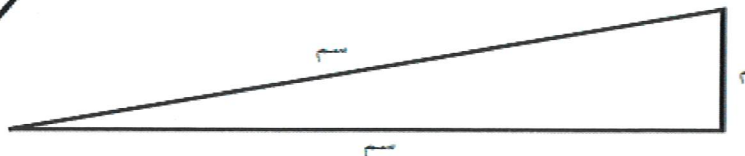




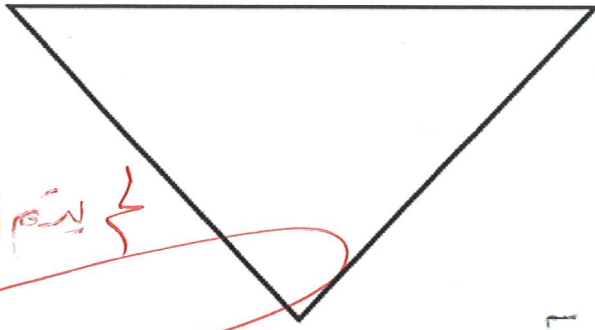
اختبار تقويمي 1

اسم الوحدة	يُطبق المفاهيم الرياضية والعمليات الحسابية	مخرج التعلم	• يقيس المساحات والأطوال
معياري الأداء	- يقيس مساحة مجسم ثلاثي الأبعاد	السنة الدراسية / الفصل الدراسي	
اسم الطالب/ة	زهرة سالم	اسم المجموعة	

أسئلة الاختبار

السؤال الأول	قس مساحة المجسم امامك .
--------------	-------------------------

باستخدام المسطرة، قم بقياس جوانب كل شكل لحساب المحيط. واضعاً قياس طول كل جانب بالسنتيمتر والمليمتير. اكتب النتائج في دفترك.




مساحة مجسم ثلاثي الأبعاد 14

اختبار تقويمي 1




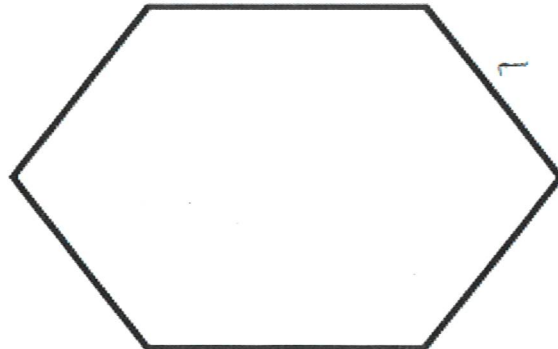
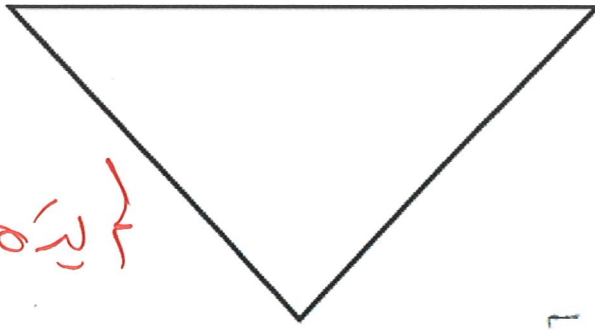
اسم الوحدة	يُطبق المفاهيم الرياضية والعمليات الحسابية	مخرج التعلم	• يقيس المساحات والأطوال
معيار الأداء	- يقيس مساحة مجسم ثلاثي الأبعاد	السنة الدراسية / الفصل الدراسي	
اسم الطالب/ة	نجيبه محمد	اسم المجموعة	

أسئلة الاختبار

السؤال الأول	قس مساحة المجسم امامك .
--------------	-------------------------



باستخدام المسطرة، قم بقياس جوانب كل شكل لحساب المحيط. واضعاً قياس طول كل جانب بالسنتيمتر والمليمتير. اكتب النتائج في دفترك.



لم يسمه لجزء




مساحة مجسم ثلاثي الأبعاد 14

اختبار تقويمي 1

اسم الوحدة	يُطبق المفاهيم الرياضية والعمليات الحسابية	مخرج التعلم	• يقيس المساحات والأطوال
معياري الأداء	- يقيس مساحة مجسم ثلاثي الأبعاد	السنة الدراسية / الفصل الدراسي	
اسم الطالب/ة	عربي محمد	اسم المجموعة	

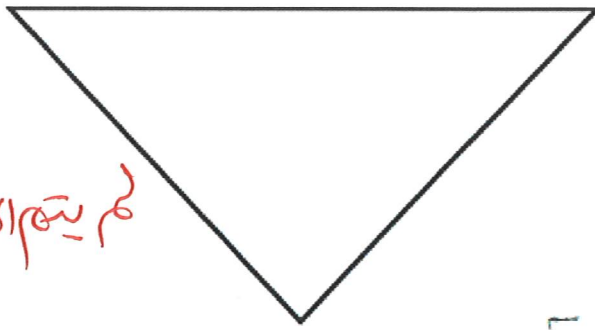
أسئلة الاختبار

السؤال الأول	قس مساحة المجسم امامك .
--------------	-------------------------




باستخدام المسطرة، قم بقياس جوانب كل شكل لحساب المحيط. واضعاً قياس طول كل جانب بالسنتمتر والملليمتر. اكتب النتائج في دفترك.

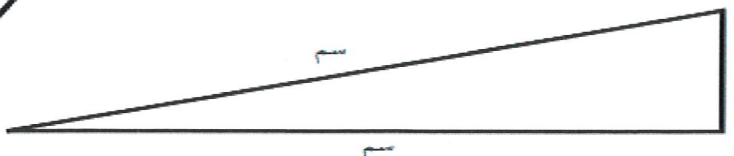


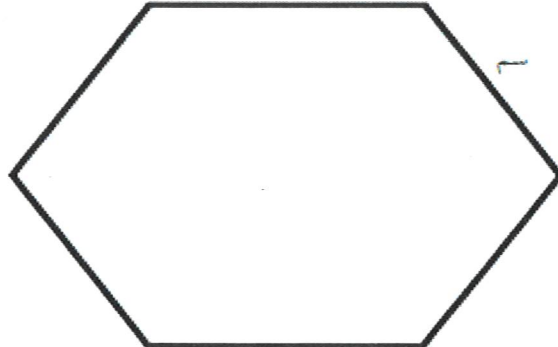
سم



سم



لم يتم الايجار



مساحة مجسم ثلاثي الأبعاد 14

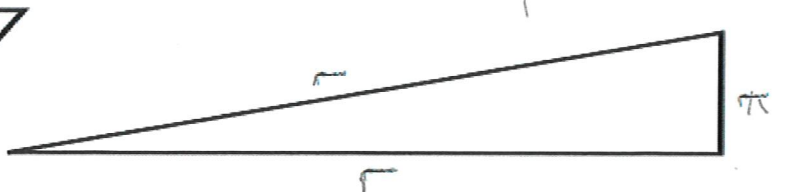

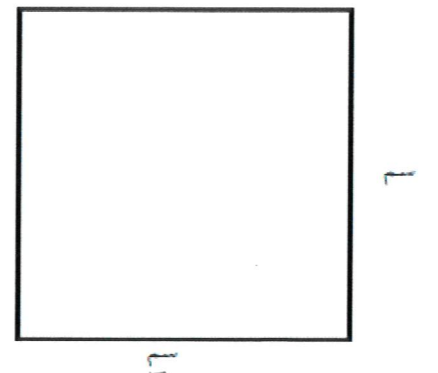
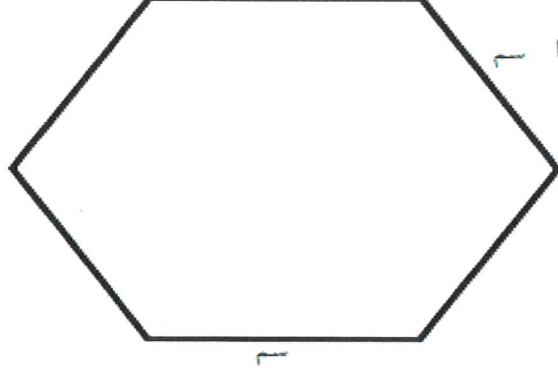


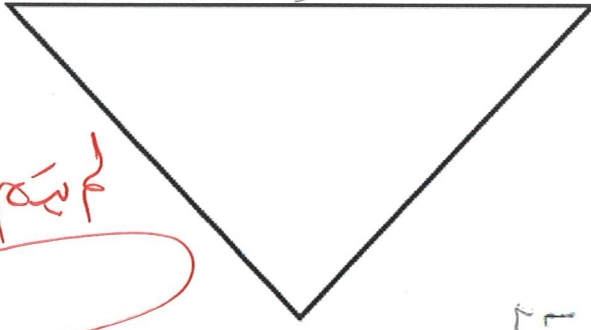

اختبار تقويمي 1

اسم الوحدة	يُطبق المفاهيم الرياضية والعمليات الحسابية	مخرج التعلم	• يقيس المساحات والأطوال
معيار الأداء	- يقيس مساحة مجسم ثلاثي الأبعاد	السنة الدراسية / الفصل الدراسي	
اسم الطالب/ة	دانه العنري	اسم المجموعة	

أسئلة الاختبار

السؤال الأول	قس مساحة المجسم امامك .
--------------	-------------------------

باستخدام المسطرة، قم بقياس جوانب كل شكل لحساب المحيط. واضعاً قياس طول كل جانب بالسنتيمتر والمليمتر. اكتب النتائج في دفترك.



لم يتم الأختبار